



مطابقت
سوالات امتحان نهایی
خردادماه ۱۴۰۳ با
آزمون شبیه‌ساز نهایی
ماز

یازدهم انسانی

در این فایل تنها بخشی از مطابقت‌ها و مشابهت‌های
محتوایی سوالات آزمون‌های شبیه‌ساز نهایی ماز
با سوالات امتحان نهایی خرداد ماه ۱۴۰۳ آورده شده است.



کارنامه نهایی ماز

تعداد کل دانش آموزان شرکت کننده	۴۱۸۹۲
تعداد برگه های تصحیح شده	۱۲۵۶۷۶
بیشترین شرکت کننده	۶۸۵۲ (عربی هر سه پایه)
تعداد امتحانات برگزار شده	۶۵ امتحان
تعداد روزهای برگزاری آزمون	۲۵ روز
تعداد مصححین	۵۹۶ نفر
تعداد مصححین ناظر	۴۰ نفر
رکورد سریع ترین تصحیح تمام برگه ها	۱۵ دقیقه بعد از اتمام بازه آزمون
سرعت رسیدگی به اعتراضات دانش آموزان	حداکثر ۱۵ دقیقه
حداکثر زمان تصحیح تمام برگه ها	۴ ساعت بعد از اتمام بازه آزمون
تعداد تطابقات عینی سوالات آزمون شبیه ساز با سوالات نهایی	۷۰۶ سوال (هرسه پایه و رشته)
رشته های برگزار شده	ریاضی، تجربی و انسانی (دهم، یازدهم و دوازدهم)

✳ برگزاری مجدد سه آزمون دینی، شیمی و علوم فنون ادبی ۱۲ ام بدلیل تغییر تاریخ امتحانات

✳ در پروژه تصحیح، مصححین ماز از پروتکل مشابه آموزش و پرورش برای تصحیح استفاده کرده و از هیچگونه هوش مصنوعی و... استفاده نشده است.

خاطره بازی...



۰.۵	<p>أَكْتُبْ مُفْرَدَ «فَلَوَاتٍ» وَ جَمْعَ «صَاحِبٍ» فِي الْعِبَارَتَيْنِ:</p> <p>(أ) إِلَهِي لَا تَهْجُرْنِي فِي فَلَوَاتِ الْمَعَاصِي. (ب) نَادَى الرَّجُلُ صَاحِبَهُ: النَّجْدَةَ النَّجْدَةَ.</p>	۴
-----	---	---

(آزمون نهایی ۵ خردادماه ۱۴۰۳ - عربی ۲)

۱	<p>أَكْتُبْ مُفْرَدَ الْكَلِمَتَيْنِ أَوْ جَمْعَهُمَا:</p> <p>الف) صَاحِبٍ: ب) غَمِي:</p>	۴
---	---	---

(آزمون شبیه ساز نهایی - ۱۴۰۳/۰۲/۱۴)

۰.۵	<p>إِنْخَبِ الْجَوَابَ الصَّحِيحَ:</p> <p>(أ) هَلْ تُرِيدُ بَطَاقَةَ الشَّحْنِ؟ ۱- نَعَمْ رَجَاءٌ أَعْطَانِي بَطَاقَةً. ۲- عَفْوًا فِي بَطَاقَةِ الشَّحْنِ إِشْكَالًا.</p> <p>(ب) مَنْ يَصْفُرُ فِي الْمَبَارَاةِ؟ ۱- اللَّاعِبُ ۲- الْحَكَمُ</p>	۲۰
-----	---	----

(آزمون نهایی ۵ خردادماه ۱۴۰۳ - عربی ۲)

۱	<p>الف) أَجِبْ عَنِ السُّؤَالِ التَّالِي:</p> <p>هَلْ تُرِيدِينَ بَطَاقَةَ الشَّحْنِ؟</p> <p>ب) عَيِّنِ الصَّحِيحَ:</p> <p>الزَّائِرُ: رَجَاءٌ شَرِيحَةُ الْجَوَالِ: مُوَظَّفَةُ الْإِتِّصَالَاتِ:</p> <p>(۱) أَعْطَانِي، تَفَضَّلَنِي □ (۲) أَعْطَانِي، تَفَضَّلَنِي □ (۳) أَعْطَانِي، تَفَضَّلَنِي □ (۴) أَعْطَانِي، تَفَضَّلَنِي □</p>	۱۷
---	---	----

(آزمون شبیه ساز نهایی - ۱۴۰۳/۰۲/۱۴)

خاطره بازی...



۰.۱۵	درستی یا نادرستی عبارتهای زیر را مشخص کنید. الف) سلمان ساوجی مثنوی «جمشید و خورشید» را به شیوهٔ داستان‌های نظامی سروده شده است. درست <input type="radio"/> نادرست <input type="radio"/>	۸
------	--	---

(آزمون جامع شبیه‌ساز نهایی درس علوم و فنون ادبی یازدهم)

۰.۲۵	در کدام گزینه آثار شاعران تماماً درست است؟ الف) تاریخ جهانگشا: عظاملک جوینی / لمعات: فخرالدین عراقی / جمشید و خورشید: سلمان ساوجی ب) مرصادالعباد: نجم‌الدین رازی / مجالس المومنین: شیخ بهایی / تذکره الاولیا: عطار نیشابوری	۴
------	---	---

(آزمون نهایی ۷ خردادماه ۱۴۰۳ درس علوم و فنون ادبی یازدهم)

خاطره بازی...



۰/۲۵	در کدام یک از بیت‌های زیر، منادا یک استعاره آشکار است؟	۲۲
	الف) تا تو را جای شد ای سرو روان در دل من هیچکس می‌نپسندم که به جای تو بود	
	ب) ای سرو پای بسته به آزادگی مناز آزاده من که از همه عالم بریده‌ام	

(آزمون جامع شبیه‌ساز نهایی درس علوم و فنون ادبی یازدهم)

۰.۵	منادا در هر بیت زیر باعث آفرینش چه آرایه ای شده است؟	۲۰
	الف) تا تو را جای شد ای سرو روان در دل من / هیچ کس می‌نپسندم که به جای تو بود	
	ب) بشکن دل بی‌نوا را ای عشق / این ساز شکسته اش خوش آهنگ تراست.	

(آزمون نهایی ۷ خردادماه ۱۴۰۳ درس علوم و فنون ادبی یازدهم)

خاطره بازی...



با خوانش درست بیت زیر خانه‌های خالی جدول را تکمیل کنید.				۱۳
سلسله موی دوست، حلقه دام بلاست هر که در این حلقه نیست، فارغ از این ماجراست				
سِل سِلِی	موی دوست	حَلَقِی دَا	مِ بِلَاسِ	
هَر کِ دَرین	فَا رِغْ زین	

(آزمون جامع شبیه‌ساز نهایی درس علوم و فنون ادبی یازدهم)

با توجه به بیت				
«سلسله موی دوست حلقه دام بلاست / هر که در این حلقه نیست فارغ از این ماجراست»				
خانه‌های خالی (الف - ب) را با ذوق خود (غیر از واژه‌های بیت) پر کنید؟				۲۳
سِل سِلِی	«الف»	حَلَقِی دَا	مِ بِلَاسِ	
هَر کِ دَرین	حَلَقِی نِی سِ	«ب»	مَاجِرَاسِ	

(آزمون نهایی ۷ خردادماه ۱۴۰۳ درس علوم و فنون ادبی یازدهم)

خاطره بازی...



۲	با توجه به متن زیر به پرسش‌های داده شده پاسخ دهید. «فرآش باد صبا را گفته تا فرش زمردین بگسترد و دایه ابر بهاری را فرموده تا بنات نبات در مهد زمین بپرورد. درختان را به خلعت نوروزی قبای سبز ورق در بر گرفته و اطفال شاخ را به قدوم موسم ربیع کلاه شکوفه بر سر نهاده.» الف) در سطر اول چند تشبیه به کار رفته است؟ ب) در سطر اول یک استعاره آشکار بیابید و بنویسید استعاره از چیست؟ ج) آخرین تشبیه متن کدام است؟ دو پایه اصلی این تشبیه مشخص کنید.	۳۱
---	--	----

(آزمون جامع شبیه‌ساز نهایی درس علوم و فنون ادبی یازدهم)

۰.۷۵	متن زیر را بخوانید و به سؤالات پاسخ دهید. «فرآش باد صبا را گفته تا فرش زمردین بگسترد و دایه ابر بهاری را فرموده تا بنات نبات در مهد زمین بپرورد. درختان را به خلعت نوروزی، قبای سبز ورق در بر گرفته و اطفال شاخ را به قدوم موسم ربیع، کلاه شکوفه بر سر نهاده.» الف) چه آرایه ای در حوزه علم بیان، بیشتر در متن به کار رفته است؟ ب) یک استعاره در سطر اول بیابید. ج) یک ویژگی زبانی در متن بیابید.	۳۴
------	---	----

(آزمون نهایی ۷ خردادماه ۱۴۰۳ درس علوم و فنون ادبی یازدهم)

خاطره بازی...



۱	واژه‌های زیر را تعریف کنید. (هر مورد ۵/۰ نمره) الف) تقیه: (ب) انسان عزیز:	۴
---	--	---

(آزمون نهایی ۹ خردادماه ۱۴۰۳ - دین و زندگی ۲)

۱	اصطلاحات زیر را تعریف کنید.	۲۴
۱		شبیعه:
		تقیه:
		۲۵

(آزمون شبیه‌ساز نهایی - خرداد ۱۴۰۳ (۱))

۳	با دقت در آیه‌ها و حدیث، به سؤالات زیر پاسخ دهید. (هر مورد ۵/۰ نمره) الف) آیه شریفه « أَفَلَا يَتَذَكَّرُونَ الْقُرْآنَ وَ لَوْ كَانَ مِنْ عِنْدِ غَيْرِ اللَّهِ لَوَجَدُوا فِيهِ اخْتِلَافًا كَثِيرًا » بیانگر کدامیک از جنبه‌های اعجاز محتوایی قرآن کریم است؟ ب) آیه شریفه « إِنَّمَا وَلِيُّكُمُ اللَّهُ وَرَسُولُهُ وَالَّذِينَ آمَنُوا الَّذِينَ الصَّلَاةَ وَيُؤْتُونَ الزَّكَاةَ وَ هُمْ » را تکمیل کنید. ج) بنا بر نامه امام عصر علیه السلام به شیخ مفید که می‌فرماید: « ما از اخبار واحوال شما آگاهیم و هیچ چیز از اوضاع شما بر ما پوشیده و مخفی نیست. » بیانگر کدام نوع ولایت است؟	۱
---	---	---

(آزمون نهایی ۹ خردادماه ۱۴۰۳ - دین و زندگی ۲)

۰/۵	الف) با تدبیر در آیات قرآن و روایت، به سؤالات زیر پاسخ دهید.	۱
۰/۵	متن عربی آیه ولایت را کامل کنید: «إِنَّمَا وَلِيُّكُمُ اللَّهُ وَ وَ الَّذِينَ آمَنُوا الَّذِينَ يُقِيمُونَ الصَّلَاةَ وَ يُؤْتُونَ الزَّكَاةَ وَ هُمْ» «همانا ولی شما فقط خداوند و رسول و کسانی‌اند که ایمان آورده‌اند همان ایمان آورندگانی که نماز را برپا می‌دارند و در حال رکوع زکات می‌دهند.»	
۰/۵	وعدة قرآنی «لِيُبَدِّلَنَّهُمْ مِنْ بَعْدِ خَوْفِهِمْ أَمْنًا» به چه کسانی داده شده است؟	۲

(آزمون شبیه‌ساز نهایی - خرداد ۱۴۰۳ (۲))

خاطره بازی...



۱	<p>با دقت در آیه‌ها و حدیث، به سؤالات زیر پاسخ دهید. (هر مورد ۰/۵ نمره)</p> <p>الف) آیه شریفه « أَفَلَا يَتَذَكَّرُونَ الْقُرْآنَ وَ لَوْ كَانَ مِنْ عِنْدِ غَيْرِ اللَّهِ لَوَجَدُوا فِيهِ إِخْتِلَافًا كَثِيرًا » بیانگر کدامیک از جنبه‌های اعجاز محتوایی قرآن کریم است؟</p> <p>ب) آیه شریفه « إِنَّمَا وَلِيُّكُمُ اللَّهُ وَرَسُولُهُ وَالَّذِينَ آمَنُوا الَّذِينَ... الصَّلَاةَ وَيُؤْتُونَ الزَّكَاةَ وَ هُمْ » را تکمیل کنید.</p> <p>ج) بنا بر نامه امام عصر علیه السلام به شیخ مفید که می‌فرماید: « ما از اخبار واحوال شما آگاهیم و هیچ چیز از اوضاع شما بر ما پوشیده و مخفی نیست. » بیانگر کدام نوع ولایت است؟</p>
---	--

(آزمون نهایی ۹ خردادماه ۱۴۰۳ - دین و زندگی ۲)

الف) با تدبر در آیات قرآن کریم و روایت به سؤالات زیر پاسخ دهید.	
۱	با توجه به آیه شریفه «رُسُلًا مَبَشِّرِينَ وَ مُنذِرِينَ لِنَاسٍ لَّئِنَّا يَكُونُ لِلنَّاسِ عَلَى اللَّهِ حُجَّةٌ بَعْدَ الرُّسُلِ...» منظور از واژه «حُجَّةٌ» چیست؟
۱	آیه شریفه « أَفَلَا يَتَذَكَّرُونَ الْقُرْآنَ وَ لَوْ كَانَ مِنْ عِنْدِ غَيْرِ اللَّهِ لَوَجَدُوا فِيهِ إِخْتِلَافًا كَثِيرًا » به کدام جنبه اعجاز قرآن اشاره دارد؟
۱	بر اساس آیه شریفه «وَ مَنْ يَبْتَغِ غَيْرَ الْإِسْلَامِ دِينًا فَلَنْ يُقْبَلَ مِنْهُ...» کسانی که دینی غیر از اسلام را بپذیرند دارای چه عاقبتی هستند؟

(آزمون شبیه ساز نهایی - ۱۴۰۲/۸/۱۲)

۶	<p>ب) با وجود یکی بودن دین الهی، از دیدگاه قرآن کریم منشاء اصلی اختلاف و چنددینی در جهان، چیست؟</p> <p>ج) قاعده «لَا ضَرَرَ وَ لَا ضِرَارَ فِي الْإِسْلَامِ» به کدام یک از عوامل ختم نبوت اشاره دارد؟</p> <p>د) بر اساس آیات و روایات، دو ویژگی لازم برای جانشینی پیامبر اسلام صلی الله علیه و آله و سلم را ذکر کنید.</p>
---	---

(آزمون نهایی ۹ خردادماه ۱۴۰۳ - دین و زندگی ۲)

د) کشف ارتباط											
۱	<p>هر یک از عبارت‌های سمت راست با کدام یک از عبارت‌های سمت چپ ارتباط دارد. (در ستون سمت چپ یک مورد اضافی است.)</p> <table border="1"> <tr> <td>الف) عوامل ختم نبوت</td> <td>استمرار و پیوستگی در دعوت</td> </tr> <tr> <td>ب) وجود قوانین تنظیم کننده</td> <td>حفظ قرآن کریم از تحریف</td> </tr> <tr> <td>ج) شناخت هدف زندگی</td> <td>لا ضَرَرَ وَ لَا ضِرَارَ فِي الْإِسْلَامِ</td> </tr> <tr> <td>د) عوامل تجدید نبوت</td> <td>چگونه زیستن؟</td> </tr> <tr> <td>ه) کشف راه درست زندگی</td> <td></td> </tr> </table>	الف) عوامل ختم نبوت	استمرار و پیوستگی در دعوت	ب) وجود قوانین تنظیم کننده	حفظ قرآن کریم از تحریف	ج) شناخت هدف زندگی	لا ضَرَرَ وَ لَا ضِرَارَ فِي الْإِسْلَامِ	د) عوامل تجدید نبوت	چگونه زیستن؟	ه) کشف راه درست زندگی	
الف) عوامل ختم نبوت	استمرار و پیوستگی در دعوت										
ب) وجود قوانین تنظیم کننده	حفظ قرآن کریم از تحریف										
ج) شناخت هدف زندگی	لا ضَرَرَ وَ لَا ضِرَارَ فِي الْإِسْلَامِ										
د) عوامل تجدید نبوت	چگونه زیستن؟										
ه) کشف راه درست زندگی											

(آزمون شبیه ساز نهایی - ۱۴۰۲/۸/۱۲)

خاطره بازی...



	با دقت در آیها و حدیث، به سوالات زیر پاسخ دهید. (هر مورد ۰/۵ نمره)	
	الف) آیه شریفه « أَفَلَا يَتَذَكَّرُونَ الْقُرْآنَ وَ لَوْ كَانَ مِنْ عِنْدِ غَيْرِ اللَّهِ لَوَجَدُوا فِيهِ إِخْتِلَافًا كَثِيرًا » بیانگر کدامیک از جنبه‌های اعجاز محتوایی قرآن کریم است؟	
	ب) آیه شریفه « إِنَّمَا وَلِيُّكُمُ اللَّهُ وَرَسُولُهُ وَالَّذِينَ آمَنُوا الَّذِينَ... الصَّلَاةَ وَيُؤْتُونَ الزَّكَاةَ وَ هُمْ » را تکمیل کنید.	
۱	ج) بنا بر نامه امام عصر علیه السلام به شیخ مفید که می‌فرماید: « ما از اخبار و احوال شما آگاهیم و هیچ چیز از اوضاع شما بر ما پوشیده و مخفی نیست. » بیانگر کدام نوع ولایت است؟	۳

(آزمون نهایی ۹ خردادماه ۱۴۰۳ - دین و زندگی ۲)

	الف) این آیه به کدام یک از ابعاد رهبری پیامبر اسلام (ص) اشاره دارد؟	
	ب) طبق این آیه گرامی‌ترین انسان‌ها نزد خدا چه کسانی هستند؟	
۱	آیه شریفه « إِنَّمَا اللَّهُ وَرَسُولُهُ، وَالَّذِينَ آمَنُوا الَّذِينَ يَقِيمُونَ الصَّلَاةَ وَ يُؤْتُونَ الزَّكَاةَ وَ هُمْ » را تکمیل کنید و بگویید این آیه، به چه نامی معروف است؟	۳
۱	با توجه به حدیث ثقلین: « إِنِّي تَارِكٌ فِيكُمْ الثَّقَلَيْنِ ... » منظور از ثقلین چیست و نتیجه تمسک به ثقلین کدام است؟	۴

(آزمون شبیه‌ساز نهایی - ۱۴۰۲/۹/۱۰)

	الف) عبارت « چگونه زیستن » به کدام یک از نیازهای بر تراشاده دارد؟	
	ب) با وجود یکی بودن دین الهی، از دیدگاه قرآن کریم منشاء اصلی اختلاف و چنددینی در جهان، چیست؟	
	ج) قاعده « لَاضْرَرَّ وَ لَاضْرَارَ فِي الْإِسْلَامِ » به کدام یک از عوامل ختم نبوت اشاره دارد؟	
۴	د) بر اساس آیات و روایات، دو ویژگی لازم برای جانشینی پیامبر اسلام صلی الله علیه و آله و سلم را ذکر کنید.	۶

(آزمون نهایی ۹ خردادماه ۱۴۰۳ - دین و زندگی ۲)

۰/۵	کتاب نهج البلاغه، بخشی از نامه‌ها و پند و اندرزهای امام علی (ع) را در خود جای داده است.	۱۱
۰/۵	پیامبر اکرم (ص) به طور مکرر، از جمله روزهای آخر عمر خود حدیث را بیان می‌فرمود.	۱۲
۰/۵	قرآن کریم منشأ اصلی و را از ناحیه آن دسته رهبران دینی می‌داند که به خاطر منافع دنیوی، پیامبر جدید را انکار می‌کردند.	۱۳

(آزمون شبیه‌ساز نهایی - ۱۴۰۲/۱۰/۷)

خاطره بازی...



۱	واژه های زیر را تعریف کنید. (هر مورد ۰/۵ نمره) الف) تقیه: (ب) انسان عزیز:	۴
---	--	---

(آزمون نهایی ۹ خردادماه ۱۴۰۳ - دین و زندگی ۲)

(و) اصطلاحات زیر را تعریف کنید.		
۰/۵	کتاب اربعه:	۲۶
۰/۵	آینده سبز:	۲۷
۰/۵	تقیه:	۲۸

(آزمون شبیه‌ساز نهایی - ۱۴۰۲/۱۲/۱۱)

۴	<p>د) براساس آیات و روایات، دو ویژگی لازم برای جانشینی پیامبر اسلام صلی الله علیه و آله و سلم را ذکر کنید.</p> <p>ه) بنا بر حدیث «سلسله الذهب»، تجلی توحید در زندگی اجتماعی چگونه میسر می شود؟</p> <p>و) دو نمونه از یاری رسانی ها و حمایت امام عصر علیه السلام در دوران غیبت را بنویسید.</p>	۶
---	---	---

(آزمون نهایی ۹ خردادماه ۱۴۰۳ - دین و زندگی ۲)

۲	دو دلیل مبارزه امامان بزرگوار با حاکمان خود را بنویسید.	۳۳
۱	نمونه‌هایی از یاری رسانی‌های معنوی حضرت مهدی (عج) در عصر غیبت را بنویسید. (۴ مورد)	۳۴
۱	کسانی که در هنگام ظهور، آمادگی یاری امام عصر (ع) را دارند، دارای چه ویژگی‌هایی هستند؟	۳۵
۲	دو دلیل مبارزه امامان بزرگوار با حاکمان خود را بنویسید.	۳۳
۱	نمونه‌هایی از یاری رسانی‌های معنوی حضرت مهدی (عج) در عصر غیبت را بنویسید. (۴ مورد)	۳۴
۱	کسانی که در هنگام ظهور، آمادگی یاری امام عصر (ع) را دارند، دارای چه ویژگی‌هایی هستند؟	۳۵

(آزمون شبیه‌ساز نهایی - ۱۴۰۲/۱۲/۱۱)

خاطره بازی...



۱	واژه های زیر را تعریف کنید. (هر مورد ۰/۵ نمره) الف) تقیه: ب) انسان عزیز:	۴
---	--	---

(آزمون نهایی ۹ خردادماه ۱۴۰۳ - دین و زندگی ۲)

۱	و) اصطلاحات زیر را تعریف کنید.	تقیه: ۲۶
۱		غیبت صغری: ۲۷

(آزمون شبیه‌ساز نهایی - ۱۴۰۳/۲/۲۱)

۱	واژه های زیر را تعریف کنید. (هر مورد ۰/۵ نمره) الف) تقیه: ب) انسان عزیز:	۴
---	--	---

(آزمون نهایی ۹ خردادماه ۱۴۰۳ - دین و زندگی ۲)

۰/۵	و) اصطلاحات زیر را تعریف کنید.	شیعه: ۲۵
۰/۵		تقیه: ۲۶

(آزمون شبیه‌ساز نهایی - خرداد ۱۴۰۳ (۱))

خاطره بازی...



۸	<p>ج) عالمان وابسته به بنی امیه و بنی عباس و برخی از علمای اهل کتاب، چگونه موجب تحریف در معارف اسلامی شدند؟</p> <p>د) یکی از اصول کلی امامان علیهم السلام در مبارزه با حاکمان جور، «عدم تایید حاکمان» است. آن را توضیح دهید.</p> <p>ه) راه های شناخت «مرجع تقلید» را بنویسید.</p> <p>و) چرا نوجوانی و جوانی، بهترین زمان برای مقابله با تمایلات پست درون است؟</p>	۲
---	---	---

(آزمون نهایی ۹ خردادماه ۱۴۰۳ - دین و زندگی ۲)

۳۳	از چه راه‌هایی می‌توانیم فقیه واجد شرایط را بشناسیم؟	۱
۳۴	چه زمانی تمایلات دانی بد می‌شوند و در چه صورتی می‌توان در عین بهره‌مندی از آن‌ها به رشد و کمال واقعی رسید؟	۱
۳۵	فواید ازدواج در زمان مناسب را بنویسید. (۴ مورد)	۱

(آزمون شبیه‌ساز نهایی - خرداد ۱۴۰۳ (۱))

۱	<p>ب) آیه شریفه «إِنَّمَا وَلِيُّكُمُ اللَّهُ وَرَسُولُهُ وَالَّذِينَ آمَنُوا الَّذِينَ... الصَّلَاةَ وَيُؤْتُونَ الزَّكَاةَ وَهُمْ...» را تکمیل کنید.</p> <p>ج) بنا بر نامه امام عصر علیه السلام به شیخ مفید که می‌فرماید: «ما از اخبار واحوال شما آگاهیم و هیچ چیز از اوضاع شما بر ما پوشیده و مخفی نیست.» بیان‌گر کدام نوع ولایت است؟</p>	۳
---	--	---

(آزمون نهایی ۹ خردادماه ۱۴۰۳ - دین و زندگی ۲)

الف) با تدبر در آیات قرآن و روایت، به سؤالات زیر پاسخ دهید.		
۱	متن عربی آیه ولایت را کامل کنید: «إِنَّمَا وَلِيُّكُمُ اللَّهُ وَرَسُولُهُ وَالَّذِينَ آمَنُوا الَّذِينَ يُقِيمُونَ الصَّلَاةَ وَيُؤْتُونَ الزَّكَاةَ وَهُمْ...» «همانا ولی شما فقط خداوند و رسول و کسانی‌اند که ایمان آورده‌اند همان آورندگان که نماز را برپا می‌دارند و در حال رکوع زکات می‌دهند.»	۰/۵
۲	وعدة قرآنی «لِيبدلنهم من بعد خوفهم امناً» به چه کسانی داده شده است؟	۰/۵

(آزمون شبیه‌ساز نهایی - خرداد ۱۴۰۳ (۲))

خاطره بازی...



۱	واژه های زیر را تعریف کنید. (هر مورد ۰/۵ نمره) الف) تقیه: ب) انسان عزیز:	۴
---	--	---

(آزمون نهایی ۹ خردادماه ۱۴۰۳ - دین و زندگی ۲)

۰/۵	«تقیه» در اقدامات و مبارزات ائمه اطهار (ع) به چه معنایی است؟	۳۲
۰/۵	چرا سخت‌گیری حاکمان بنی عباس نسبت به امامان دهم و یازدهم به حدی زیاد شده بود که آن بزرگواران را در محاصره کامل قرار داده بودند؟	۳۳

(آزمون شبیه‌ساز نهایی - خرداد ۱۴۰۳ (۲))

خاطره بازی...



۱/۵	<p>عبارت‌های صحیح و غلط را مشخص کنید.</p> <p>الف) تمامی پدیده‌های جهان هستی محصول زندگی انسان نیستند.</p> <p>ب) قرآن کریم، جهان فردی اشخاص را نادیده می‌گیرد ولی بر مسئولیت فرد در قبال فرهنگ و جامعه تأکید می‌کند.</p> <p>ج) فرهنگ‌های مختلف، گستره جغرافیایی و تداوم تاریخی یکسانی ندارند.</p> <p>د) فرهنگ‌های جبرگرا، نقش انسان‌ها را در تعیین سرنوشتشان انکار می‌کنند.</p> <p>ه) ایرانیان باستان با فتوحاتی که خارج از مرزهای جغرافی‌شان داشتند، به فرهنگ جهانی رسیدند.</p> <p>و) کودتای نوژه از جمله کودتاهای موفق استعمار نو بود که ماهیتی آمریکایی، انگلیسی داشت.</p>	۱
-----	--	---

(آزمون شبیه‌ساز نهایی ۱۴۰۲/۰۸/۱۲ - جامعه‌شناسی ۲)

۱	<p>درستی یا نادرستی جمله‌های زیر را مشخص کنید.</p> <p>الف) فرهنگ‌های مختلف گستره جغرافیایی و تداوم تاریخی یکسانی دارند.</p> <p>ب) اومانیسم، مهم‌ترین ویژگی انسان‌شناختی فرهنگ معاصر غرب، به معنای اصالت انسان دنیوی و این جهانی است.</p> <p>ج) تک‌محصولی شدن اقتصاد کشورهای استعمارزده، قدرت چانه‌زنی در اقتصاد جهانی را از آنان می‌گیرد.</p> <p>د) ریکاردو، اقتصاددان موافق دخالت دولت در اقتصاد، افزایش دستمزد و رفاه کارگران را موجب افزایش تولید نسل آن‌ها و پیدایش مشکلات بعدی می‌داند.</p>	۱
---	--	---

(آزمون نهایی ۱۲ خردادماه ۱۴۰۳ - جامعه‌شناسی ۲)

۱	<p>قومی که در اثر تهاجم نظامی شکست می‌خورد، در چه صورتی می‌تواند استقلال خود را به دست آورد و در چه صورتی می‌تواند گروه مهاجم را در فرهنگ خود هضم کند؟</p>	۱۵
---	--	----

(آزمون شبیه‌ساز نهایی ۱۴۰۲/۰۸/۱۲ - جامعه‌شناسی ۲)

۳	<p>به سوالات زیر پاسخ کوتاه بدهید.</p> <p>الف) در صورتی که فرهنگی به حقیقتی قائل نباشد، با چه پیامدی مواجه می‌گردد؟</p> <p>ب) قومی که در اثر تهاجم نظامی شکست می‌خورد، در چه صورتی می‌تواند استقلال سیاسی خود را به دست آورد؟</p> <p>ج) در دوره استعمار، کشورهایمانند چین، عثمانی و ایران در چه شرایطی به سر می‌بردند؟</p> <p>د) کدام عامل عمیق‌ترین تأثیر را در توزیع فرهنگ غرب در جهان دارد؟</p> <p>ه) با توجه به دو اصطلاح استعمارگر و استعمارزده، مشکل کشورهای فقیر ناشی از چیست؟</p> <p>و) ویژگی مشترک بیدارگران اسلامی و منورالفکران غرب‌گرا را بنویسید.</p>	۵
---	--	---

(آزمون نهایی ۱۲ خردادماه ۱۴۰۳ - جامعه‌شناسی ۲)

خاطره بازی...



۳	<p>به سؤالات زیر پاسخ کوتاه دهید.</p> <p>الف) این پرسش که «آیا تنها راه شناخت، حس و تجربه است؟» جزء کدام دسته از پرسش‌های بنیادی است؟</p> <p>ب) در استعمار نو، نوع حضور استعمارگران و مجریان چگونه است؟</p> <p>پ) کدام نوع روشنگری به مبنای معرفت‌شناسی پذیرفته‌شده در فرهنگ غرب گفته می‌شود؟</p> <p>ت) در قرون وسطی، حقوق فطری الهی انسان با چه ابزارهایی شناخته می‌شد؟</p> <p>ث) جوامع استعمارزده به‌رغم مقاومت‌هایی که طی قرن بیستم انجام دادند، با چه چیزهایی مواجه شدند؟</p> <p>ج) چه عاملی قدرت چانه‌زنی در اقتصاد جهانی را از کشورهای استعمارزده می‌گیرد؟</p>	۴
---	--	---

(آزمون شبیه‌ساز نهایی ۱۴۰۲/۱۰/۰۷ - جامعه‌شناسی ۲)

۱	<p>درستی یا نادرستی جمله‌های زیر را مشخص کنید.</p> <p>الف) فرهنگ‌های مختلف گستره جغرافیایی و تداوم تاریخی یکسانی دارند.</p> <p>ب) اومانیسیم، مهم‌ترین ویژگی انسان‌شناختی فرهنگ معاصر غرب، به‌معنای اصالت انسان دنیوی و این جهانی است.</p> <p>ج) تک‌محصولی‌شدن اقتصاد کشورهای استعمارزده، قدرت چانه‌زنی در اقتصاد جهانی را از آنان می‌گیرد.</p> <p>د) ریکاردو، اقتصاددان موافق دخالت دولت در اقتصاد، افزایش دستمزد و رفاه کارگران را موجب افزایش تولید نسل آن‌ها و پیدایش مشکلات بعدی می‌داند.</p>	۱
---	---	---

(آزمون نهایی ۱۲ خردادماه ۱۴۰۳ - جامعه‌شناسی ۲)

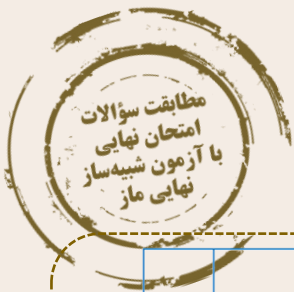
۱	از پایان قرن بیستم با افول حس‌گرایی، فرهنگ غرب گرفتار چه بحرانی شد و این بحران چه ویژگی‌هایی داشت؟	۱۵
---	--	----

(آزمون شبیه‌ساز نهایی ۱۴۰۲/۱۰/۰۷ - جامعه‌شناسی ۲)

۲۰۵	<p>جملات زیر را کامل کنید.</p> <p>الف) پاسخ‌های متفاوت به پرسش‌های اساسی مختلفی را پدید می‌آورد.</p> <p>ب) در پایان قرن بیستم با افول حس‌گرایی، فرهنگ غرب گرفتار شده است.</p> <p>ج) در فرهنگ دینی حقوق انسان بر اساس ربوبیت پروردگار و انسان شکل می‌گیرد.</p> <p>د) نظریه‌پردازان لیبرال آزادی فعالیت را ضامن پیشرفت جامعه می‌دانستند.</p> <p>ه) در نیمه اول قرن بیستم، با روشن‌شدن محدودیت‌های علم تجربی، علم از دست برداشت.</p>	۲
-----	---	---

(آزمون نهایی ۱۲ خردادماه ۱۴۰۳ - جامعه‌شناسی ۲)

خاطره بازی...



۲	۳	<p>(ت) کدام عامل، عمیق‌ترین تأثیر را در توزیع فرهنگ غرب در جهان دارد و علت آن چیست؟</p> <p>(۱) ترویج علوم انسانی غربی در کشورهای غیرغربی - خودداری جهان غرب از آموزش دانش‌های راهبردی به کشورهای درحال توسعه</p> <p>(۲) توزیع هدفمند علوم طبیعی و علوم انسانی - تعریف زندگی آدمی به‌گونه‌ای سکولار و بدون توجه به ابعاد معنوی آن</p> <p>(۳) ترویج علوم انسانی غربی در کشورهای غیرغربی - بازنگری و ارزیابی هویت فرهنگ‌های دینی از نگاه فرهنگ غربی</p> <p>(۴) توزیع هدفمند علوم طبیعی و علوم انسانی - محروم کردن فرهنگ‌ها از علوم بر پایه بنیان‌های معرفتی دینی</p>
---	---	---

(آزمون شبیه‌ساز نهایی ۱۴۰۲/۱۰/۰۷ - جامعه‌شناسی ۲)

۳	۵	<p>به سؤالات زیر پاسخ کوتاه بدهید.</p> <p>(الف) در صورتی که فرهنگی به حقیقتی قائل نباشد، با چه پیامدی مواجه می‌گردد؟</p> <p>(ب) قومی که در اثر تهاجم نظامی شکست می‌خورد، در چه صورتی می‌تواند استقلال سیاسی خود را به دست آورد؟</p> <p>(ج) در دوره استعمار، کشورهایی مانند چین، عثمانی و ایران در چه شرایطی به سر می‌بردند؟</p> <p>(د) کدام عامل عمیق‌ترین تأثیر را در توزیع فرهنگ غرب در جهان دارد؟</p> <p>(ه) با توجه به دو اصطلاح استعمارگر و استعمارزده، مشکل کشورهای فقیر ناشی از چیست؟</p> <p>(و) ویژگی مشترک بیدارگران اسلامی و منورالفکران غرب‌گرا را بنویسید.</p>
---	---	--

(آزمون نهایی ۱۲ خردادماه ۱۴۰۳ - جامعه‌شناسی ۲)

۱/۵	۸	<p>(ب) استعمار در چه قرن به اوج رسید؟</p> <p>(۱) قرن هجدهم (۲) قرن نوزدهم</p> <p>(پ) کدام مورد از نتایج منطقی سکولاریسم است؟</p> <p>(۱) ناسیونالیسم (۲) اومانیسم</p> <p>(ت) کدام کشور در دوره استعمار در شرایط نیمه‌استعماری به سر می‌برد؟</p> <p>(۱) عثمانی (۲) اندونزی</p> <p>(ث) نشر و گسترش اسلام مرهون کدام مورد بود؟</p> <p>(۱) قوت و قدرت فرهنگی آن (۲) قدرت سیاسی و نظامی آن</p> <p>(ج) کدام عامل منجر به حاکمیت فئودال‌ها و اربابان بزرگ شد؟</p> <p>(۱) انقلاب فرانسه (۲) زوال تدریجی قدرت کلیسا</p>
-----	---	---

(آزمون شبیه‌ساز نهایی ۱۴۰۲/۱۰/۰۷ - جامعه‌شناسی ۲)

۰.۵	۷	<p>هرکدام از موارد زیر به چه مفهومی در فرایند تکوین نظام جهانی اشاره دارد؟</p> <p>(الف) روش تأثیرگذاری بر نخبگان سیاسی جوامع غیرغربی می‌باشد. (.....)</p> <p>(ب) نشر و گسترش اسلام مرهون این عامل بود. (.....)</p>
-----	---	--

(آزمون نهایی ۱۲ خردادماه ۱۴۰۳ - جامعه‌شناسی ۲)

خاطره بازی...



۱/۵	<p>جاهای خالی را با کلمات مناسب پر کنید.</p> <p>الف) اقتصاد دوره براساس روابط اجتماعی ارباب-رعیتی بود.</p> <p>ب) نظریه پردازان آزادی فعالیت صاحبان سرمایه را ضامن پیشرفت جامعه می‌دانستند.</p> <p>پ) پس از بلوک شرق و غرب، هر یک بخشی از جهان را زیر نفوذ خود قرار دادند.</p> <p>ت) تقابل تقابلی جهانی است و در صورتی که فعال شود، بسیاری از چالش‌های درونی کشورهای غربی، دیگر بار فعال خواهند شد.</p> <p>ث) نخستین بحران اقتصادی در سال ۱۸۲۰ م در کشور به وجود آمد.</p> <p>ج) در فرهنگ کتاب مقدس و شهود آباء کلیسا معتبرترین راه شناخت جهان بود.</p>	۲
-----	---	---

(آزمون شبیه‌ساز نهایی ۱۴۰۲/۱۲/۱۱ - جامعه‌شناسی ۲)

۲/۵	<p>جملات زیر را کامل کنید.</p> <p>الف) پاسخ‌های متفاوت به پرسش‌های اساسی مختلفی را پدید می‌آورد.</p> <p>ب) در پایان قرن بیستم با افول حس گرایی، فرهنگ غرب گرفتار شده است.</p> <p>ج) در فرهنگ دینی حقوق انسان بر اساس ربوبیت پروردگار و انسان شکل می‌گیرد.</p> <p>د) نظریه‌پردازان لیبرال آزادی فعالیت را ضامن پیشرفت جامعه می‌دانستند.</p> <p>ه) در نیمه اول قرن بیستم، با روشن شدن محدودیت‌های علم تجربی، علم از دست برداشت.</p>	۲
-----	---	---

(آزمون نهایی ۱۲ خردادماه ۱۴۰۳ - جامعه‌شناسی ۲)

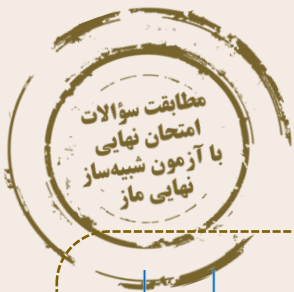
۱	گریز و روگردانی از سکولاریسم در جوامع غربی چه پیامدهایی به دنبال داشت؟ (۲ مورد)	۱۰
---	---	----

(آزمون شبیه‌ساز نهایی ۱۴۰۲/۱۲/۱۱ - جامعه‌شناسی ۲)

۱	دو مورد از پیامدهای اجتماعی روگردانی از سکولاریسم در جوامع غربی را بنویسید.	۱۲
---	---	----

(آزمون نهایی ۱۲ خردادماه ۱۴۰۳ - جامعه‌شناسی ۲)

خاطره بازی...



۲	<p>پ) ویژگی مشترک نخستین بیدارگران اسلامی و منورالفکران غرب‌گرا چه بود؟</p> <p>۱) نسبت به کشورهای استعمارگر احساس خطر نکردن</p> <p>۲) بیداری را در بازگشت به اسلام دانستن</p> <p>۳) خواستار اصلاح رفتار دولت‌ها در کشورهای اسلامی بودن</p> <p>۴) روی آوردن به ناسیونالیسم</p>	۳
---	---	---

(آزمون شبیه‌ساز نهایی ۱۴۰۳/۰۲/۲۱ - جامعه‌شناسی ۲)

۳	<p>به سؤالات زیر پاسخ کوتاه بدهید.</p> <p>الف) در صورتی که فرهنگی به حقیقتی قائل نباشد، با چه پیامدی مواجه می‌گردد؟</p> <p>ب) قومی که در اثر تهاجم نظامی شکست می‌خورد، در چه صورتی می‌تواند استقلال سیاسی خود را به دست آورد؟</p> <p>ج) در دوره استعمار، کشورهایی مانند چین، عثمانی و ایران در چه شرایطی به سر می‌بردند؟</p> <p>د) کدام عامل عمیق‌ترین تأثیر را در توزیع فرهنگ غرب در جهان دارد؟</p> <p>ه) با توجه به دو اصطلاح استعمارگر و استعمارزده، مشکل کشورهای فقیر ناشی از چیست؟</p> <p>و) ویژگی مشترک بیدارگران اسلامی و منورالفکران غرب‌گرا را بنویسید.</p>	۵
---	--	---

(آزمون نهایی ۱۲ خردادماه ۱۴۰۳ - جامعه‌شناسی ۲)

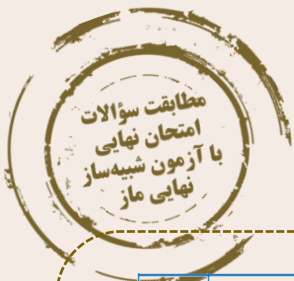
۱	<p>در جدول زیر چالش فقر و غنا و بحران اقتصادی باهم مقایسه شده‌اند، آن را کامل کنید.</p> <table border="1" style="width: 100%; border-collapse: collapse;"> <thead> <tr> <th style="width: 33%;">بحران اقتصادی</th> <th style="width: 33%;">چالش فقر و غنا</th> <th style="width: 33%;">ویژگی‌ها</th> </tr> </thead> <tbody> <tr> <td>..... (ب)</td> <td>..... (الف)</td> <td>میزان تداوم آن</td> </tr> <tr> <td>..... (ت)</td> <td>..... (پ)</td> <td>گستره اثرگذاری بر جامعه</td> </tr> </tbody> </table>	بحران اقتصادی	چالش فقر و غنا	ویژگی‌ها (ب) (الف)	میزان تداوم آن (ت) (پ)	گستره اثرگذاری بر جامعه	۱۰
بحران اقتصادی	چالش فقر و غنا	ویژگی‌ها									
..... (ب) (الف)	میزان تداوم آن									
..... (ت) (پ)	گستره اثرگذاری بر جامعه									

(آزمون شبیه‌ساز نهایی ۱۴۰۳/۰۲/۲۱ - جامعه‌شناسی ۲)

۱	<p>تفاوت چالش فقر و غنا را با بحران اقتصادی بیان کنید.</p>	۱۱
---	--	----

(آزمون نهایی ۱۲ خردادماه ۱۴۰۳ - جامعه‌شناسی ۲)

خاطره بازی...



۲/۵	<p>۲ جای خالی را با کلمات مناسب پر کنید.</p> <p>الف) به دلیل وابستگی اقتصادی کشورهای استعمارزده به کشورهای استعمارگر، در سطح جهانی، نامتعادل می‌شود.</p> <p>ب) این‌که فرهنگ جهانی باید توانایی پاسخ به پرسش‌های ثابت و متغیر بشر را داشته باشد، به ویژگی فرهنگ جهانی مربوط است.</p> <p>ج) رویکرد گزینشی جهان غرب به ابعاد معنوی و دینی جهان، سبب پیدایش و رشد نهضت‌های جدید با عنوان شده است.</p> <p>د) جوامع سوسیالیستی با انتقاد از عدالت اجتماعی و توزیع مناسب ثروت را شعار خود قرار می‌دادند.</p> <p>ه) دولت مصر به رهبری جمال عبدالناصر، مظهر بود ولی پس از مرگ وی، انورسادات با امضای قرارداد کمپ‌دیوید، اسرائیل را به رسمیت شناخت.</p>
-----	---

(آزمون شبیه‌ساز نهایی خردادماه - جامعه‌شناسی ۲)

۱	عبارت‌های ستون سمت راست را با مفاهیم ستون سمت چپ ارتباط دهید. (یک مورد اضافی است)		۴
	(الف) پاسخ به پرسش‌های ثابت و متغیر بشر	(۱) ناسیونالیستی و قومی	
	ب) رویکرد گزینشی جهان غرب به ابعاد معنوی هستی	(۲) انقلاب	
	ج) هویت دولت - ملت‌های جدید در اروپای غربی	(۳) عقلانیت	
	د) راه‌حل چالش‌های جامعه سرمایه‌داری از دیدگاه مارکس	(۴) معنوی و دینی	
	(۵) سکولاریسم پنهان		

(آزمون نهایی ۱۲ خردادماه ۱۴۰۳ - جامعه‌شناسی ۲)

۱۲	دو اصطلاح استعمارگر و استعمارزده را چه کسانی به کار می‌برند و از نظر این گروه، مشکل کشورهای فقیر چیست؟	۱/۵
----	--	-----

(آزمون شبیه‌ساز نهایی خردادماه - جامعه‌شناسی ۲)

۳	<p>۵ به سؤالات زیر پاسخ کوتاه بدهید.</p> <p>الف) در صورتی که فرهنگی به حقیقتی قائل نباشد، با چه پیامدی مواجه می‌گردد؟</p> <p>ب) قومی که در اثر تهاجم نظامی شکست می‌خورد، در چه صورتی می‌تواند استقلال سیاسی خود را به دست آورد؟</p> <p>ج) در دوره استعمار، کشورهایی مانند چین، عثمانی و ایران در چه شرایطی به سر می‌بردند؟</p> <p>د) کدام عامل عمیق‌ترین تأثیر را در توزیع فرهنگ غرب در جهان دارد؟</p> <p>ه) با توجه به دو اصطلاح استعمارگر و استعمارزده، مشکل کشورهای فقیر ناشی از چیست؟</p> <p>و) ویژگی مشترک بیدارگران اسلامی و منورالفکران غرب‌گرا را بنویسید.</p>
---	--

(آزمون نهایی ۱۲ خردادماه ۱۴۰۳ - جامعه‌شناسی ۲)

خاطره بازی...



۱۵	یک شباهت و دو تفاوت بحران اقتصادی و چالش فقر و غنا را بنویسید.	۱/۵
----	--	-----

(آزمون شبیه‌ساز نهایی خردادماه - جامعه‌شناسی ۲)

۱۱	تفاوت چالش فقر و غنا را با بحران اقتصادی بیان کنید.	۱
----	---	---

(آزمون نهایی ۱۲ خردادماه ۱۴۰۳ - جامعه‌شناسی ۲)

۲	<p>جاهای خالی را با کلمات مناسب کامل کنید.</p> <p>الف) مهم‌ترین عامل ادغام جوامع غیرغربی در نظام جهانی جدید، بود.</p> <p>ب) تک‌محصولی شدن اقتصاد کشورهای استعمارزده، در اقتصاد جهانی را از آنان می‌گیرد.</p> <p>ج) نظریه پردازان آزادی فعالیت صاحبان سرمایه را ضامن پیشرفت جامعه می‌دانستند.</p> <p>د) حرکت‌های اعتراض آمیز روشنفکران چپ کشورهای مسلمان، اغلب مورد حمایت قرار می‌گرفت.</p> <p>ه) انقلاب اکتبر ۱۹۱۷م روسیه به دلیل رویکرد چپ و سوسیالیستی با دیگر انقلاب‌های اروپایی تفاوت داشت ولی به دلیل درون فرهنگ غرب قرار می‌گرفت.</p>	۲/۵
---	---	-----

(آزمون شبیه‌ساز نهایی مارکوپولو - جامعه‌شناسی ۲)

۱	<p>درستی یا نادرستی جمله‌های زیر را مشخص کنید.</p> <p>الف) فرهنگ‌های مختلف گستره جغرافیایی و تداوم تاریخی یکسانی دارند.</p> <p>ب) اومانیسیم، مهم‌ترین ویژگی انسان‌شناختی فرهنگ معاصر غرب، به معنای اصالت انسان دنیوی و این جهانی است.</p> <p>ج) تک‌محصولی شدن اقتصاد کشورهای استعمارزده، قدرت چانه‌زنی در اقتصاد جهانی را از آنان می‌گیرد.</p> <p>د) ریکاردو، اقتصاددان موافق دخالت دولت در اقتصاد، افزایش دستمزد و رفاه کارگران را موجب افزایش تولید نسل آن‌ها و پیدایش مشکلات بعدی می‌داند.</p>	۱
---	---	---

(آزمون نهایی ۱۲ خردادماه ۱۴۰۳ - جامعه‌شناسی ۲)

خاطره بازی...



۲/۵	<p>جاهای خالی را با کلمات مناسب کامل کنید.</p> <p>الف) مهم‌ترین عامل ادغام جوامع غیرغربی در نظام جهانی جدید، بود.</p> <p>ب) تک‌محصولی شدن اقتصاد کشورهای استعمارزده، در اقتصاد جهانی را از آنان می‌گیرد.</p> <p>ج) نظریه پردازان آزادی فعالیت صاحبان سرمایه را ضامن پیشرفت جامعه می‌دانستند.</p> <p>د) حرکت‌های اعتراض‌آمیز روشنفکران چپ کشورهای مسلمان، اغلب مورد حمایت قرار می‌گرفت.</p> <p>ه) انقلاب اکتبر ۱۹۱۷م روسیه به دلیل رویکرد چپ و سوسیالیستی با دیگر انقلاب‌های اروپایی تفاوت داشت ولی به دلیل درون فرهنگ غرب قرار می‌گرفت.</p>	۲
-----	---	---

(آزمون شبیه‌ساز نهایی مارکوپولو - جامعه‌شناسی ۲)

۲۰۵	<p>جملات زیر را کامل کنید.</p> <p>الف) پاسخ‌های متفاوت به پرسش‌های اساسی مختلفی را پدید می‌آورد.</p> <p>ب) در پایان قرن بیستم با افول حس‌گرایی، فرهنگ غرب گرفتار شده است.</p> <p>ج) در فرهنگ دینی حقوق انسان بر اساس ربوبیت پروردگار و انسان شکل می‌گیرد.</p> <p>د) نظریه پردازان لیبرال آزادی فعالیت را ضامن پیشرفت جامعه می‌دانستند.</p> <p>ه) در نیمه اول قرن بیستم، با روشن شدن محدودیت‌های علم تجربی، علم از دست برداشت.</p>	۲
-----	---	---

(آزمون نهایی ۱۲ خردادماه ۱۴۰۳ - جامعه‌شناسی ۲)

۰/۵	<p>هریک از ویژگی‌های زیر به ترتیب مربوط به کدام یک از انواع امپریالیسم است؟</p> <p>الف) تصرف بازارها و مواد خام یک کشور توسط کشور دیگر (.....)</p> <p>ب) اشغال نظامی جوامع ضعیف (.....)</p>	۶
-----	---	---

(آزمون شبیه‌ساز نهایی مارکوپولو - جامعه‌شناسی ۲)

۰۰۵	<p>هر کدام از موارد زیر به چه مفهومی اشاره دارد؟</p> <p>الف) از طریق اشغال نظامی جوامع ضعیف شکل می‌گیرد. (.....)</p> <p>ب) هویت فرهنگی کشورهای دیگر را هدف قرار می‌دهد. (.....)</p>	۶
-----	---	---

(آزمون نهایی ۱۲ خردادماه ۱۴۰۳ - جامعه‌شناسی ۲)

خاطره بازی...



۱۵	گریز و رویگردانی از سکولاریسم در جوامع غربی چه پیامدهای اجتماعی به دنبال داشت؟ (سه پیامد را بیان کنید).
----	---

(آزمون شبیه‌ساز نهایی مارکوپولو - جامعه‌شناسی ۲)

۱۲	دو مورد از پیامدهای اجتماعی رویگردانی از سکولاریسم در جوامع غربی را بنویسید.
----	--

(آزمون نهایی ۱۲ خردادماه ۱۴۰۳ - جامعه‌شناسی ۲)

۹	به سوالات زیر پاسخ کوتاه دهید. الف) اگر جامعه، حالت فعال و خلاق خود را در گزینش عناصر فرهنگی از دست بدهد، چه نتیجه‌ای در پی دارد؟ ب) دو مشکل اساسی جوامع سوسیالیستی را نام ببرید. ج) در چه زمانی نخستین روبرویی غرب متجدد با جهان اسلام رخ داد؟ د) نخستین بیدارگران اسلامی در ایران، جنبش‌هایی را با چه هدفی به وجود آوردند؟ ه) مهم‌ترین پیامد انقلاب اسلامی ایران در جهان اسلام چه بود؟ و) انقلاب اسلامی چگونه مسئله اسرائیل را به عنوان مسئله جهان اسلام مطرح کرد؟
---	--

(آزمون شبیه‌ساز نهایی مارکوپولو - جامعه‌شناسی ۲)

۱۳	انقلاب اسلامی ایران چه تأثیری بر مسئله اسرائیل داشت؟
----	--

(آزمون نهایی ۱۲ خردادماه ۱۴۰۳ - جامعه‌شناسی ۲)

خاطره بازی...



۳	<p>کدام یک از عبارات زیر درست و کدام یک نادرست می‌باشد:</p> <p>الف) دانش فلسفه از جهت روش با ریاضی متفاوت است؛ اما از جهت موضوع به آن شباهت دارد.</p> <p>ب) با تحلیل عقیده و طرز فکر افراد می‌توان اهداف و معنای زندگی آن‌ها را حدس زد و متوجه شد.</p> <p>ج) تفکر فلسفی روشمند، فقط اختصاص به فیلسوف دارد؛ اما هر کسی می‌تواند اهل تفکر فلسفی باشد.</p> <p>د) با توجه به پیشرفت‌های علمی اخیر می‌توان اطلاعات دقیقی از چگونگی آغاز فلسفه ارائه داد.</p> <p>ه) «چیستی» و «امکان» معرفت هر دو بدیهی‌اند؛ با این حال چیستی معرفت نیاز به دلیل و امکان معرفت نیاز به تعریف دارند.</p> <p>و) شکل‌گیری دانش معرفت‌شناسی نتیجه تأمل فیلسوفانه در مسائل مربوط به شناخت است.</p>	۱
---	---	---

(آزمون شبیه‌ساز نهایی ۱۴۰۲/۱۰/۰۷ - فلسفه ۱)

۲	<p>درستی یا نادرستی هر یک از عبارات‌های زیر را مشخص نمایید.</p> <p>الف) رویارویی انسان با سوالات روزمره و جستجوی پاسخ آن‌ها، مرحله‌ی اول تفکر است.</p> <p>ب) ابتدا باید وجود را شناخت تا بتوان امکان شناخت آن را بررسی کرد.</p> <p>ج) در تمثیل غار افلاطون، «نور خورشید» عامل شناخت اشیای بیرون غار است.</p> <p>د) به هیچ وجه نمی‌توان تاریخ دقیقی از آغاز فلسفه ارائه داد.</p> <p>ه) وجود اشتباه در شناخت، به طور طبیعی به معنای ناتوانی در کسب معرفت تلقی می‌شود.</p> <p>و) قانون علیت اساس تجربه است؛ یعنی علیت از تجربه به دست می‌آید.</p> <p>ز) از آنجا که دکارت مخالف با تجربه و علم تجربی نبود، پس می‌توان گفت: «او نیز تجربه‌گرا است.»</p> <p>ح) با فرض اینکه «پرداخت به موقع دستمزد کارگران» بتواند قاعده عمومی شود، از نظر کانت خیر محسوب می‌شود.</p>	۱
---	--	---

(آزمون نهایی ۱۶ خردادماه ۱۴۰۳ - فلسفه ۱)

خاطره بازی...



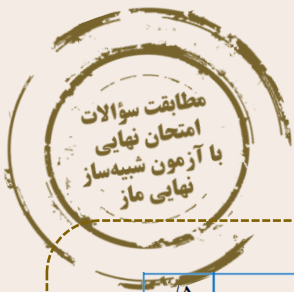
۱/۵	۱ تعیین کنید کدام‌یک از عبارات زیر صحیح و کدام‌یک غلط هستند: الف) برای ورود به مرحله تفکر فلسفی باید امور روزانه و فطرت ثانی را رها نمود و از آن عبور کرد. ب) هستی‌شناسی به معنای بررسی توانایی انسان در شناخت جهان هستی می‌باشد. ج) اهداف هرکسی تعیین‌کننده باورها و فلسفه زندگی او است. د) از نظر سقراط گریز از بدی دشوار است ولی گریز از مرگ هرگز دشوار نیست. ه) شناختی که توسط عقل به دست می‌آید، در موضوعاتی است که حس قابلیت درک آن را ندارد و فقط شامل غیرمحسوسات نمی‌شود. و) درباره تفکر می‌توان گفت که همیشه مراحل آن ثابت هستند و فقط موضوعات آن تغییر می‌کند.
-----	---

(آزمون شبیه‌ساز نهایی خردادماه ۱۴۰۳ - فلسفه ۱)

	۲ عبارت‌های زیر را با کلمات مناسب تکمیل نمایید. الف) بخش اصلی فلسفه درصدد بحث و بررسی اصل و حقیقت است. ب) باورهای انسان، نقش تعیین‌کننده در انتخاب دارند. ج) در آغاز شکل‌گیری فلسفه در یونان باستان، مسئله‌ای که اندیشمندان را به خود مشغول می‌داشت، بود. د) در روش پرسش و پاسخ سقراطی، او می‌خواست مخاطب را به برساند. ه) شک در اصل دانستن و همه دانسته‌ها، با سازگار نیست. و) فلاسفه مسلمان معاصر، معرفت فلسفی را متکی بر می‌دانند و بدون آن فلسفه اساساً وجود ندارد. ز) داروینیست‌ها درباره پیدایش انسان از حیوان، نتایج گرفتند. ح) در انسان‌شناسی ابن سینا، روح انسانی از جنس است.
--	--

(آزمون نهایی ۱۶ خردادماه ۱۴۰۳ - فلسفه ۱)

خاطره بازی...



۱۰ آنچه بیش از هر چیز اندیشمندان نخستین یونان را به خود مشغول می‌کرد، چه بود؟

(آزمون شبیه‌ساز نهایی ۱۴۰۲/۱۰/۰۷ - فلسفه ۱)

۲	<p>عبارت‌های زیر را با کلمات مناسب تکمیل نمایید.</p> <p>الف) بخش اصلی فلسفه درصدد بحث و بررسی اصل و حقیقت است.</p> <p>ب) باورهای انسان، نقش تعیین‌کننده در انتخاب دارند.</p> <p>ج) در آغاز شکل‌گیری فلسفه در یونان باستان، مسئله‌ای که اندیشمندان را به خود مشغول می‌داشت، بود.</p> <p>د) در روش پرسش و پاسخ سقراطی، او می‌خواست مخاطب را به برساند.</p> <p>ه) شک در اصل دانستن و همه دانسته‌ها، با سازگار نیست.</p> <p>و) فلاسفه مسلمان معاصر، معرفت فلسفی را متکی بر می‌دانند و بدون آن فلسفه اساساً وجود ندارد.</p> <p>ز) داروین‌یست‌ها درباره پیدایش انسان از حیوان، نتایج گرفتند.</p> <p>ح) درانسان شناسی ابن سینا، روح انسانی از جنس است.</p>	۲

(آزمون نهایی ۱۶ خردادماه ۱۴۰۳ - فلسفه ۱)

خاطره بازی...



		<p>الف) استدلال کانت برای اثبات نفس مجرد این چنین است: (۱) انسان دارای اخلاق و وجدان اخلاقی است. (۲) اخلاق و وجدان اخلاقی بدون اراده آزاد و اختیار معنا ندارد. (۳) اراده و اختیار مربوط به نفس است نه بدن مادی. ب) داروینیست‌ها دسته‌ای از فیلسوفان هستند که از نظریه تحول تدریجی موجودات (داروین) نتایج فلسفی گرفته‌اند.</p>
--	--	---

(آزمون شبیه‌ساز نهایی خردادماه ۱۴۰۳ - فلسفه ۱)

	<p>عبارت‌های زیر را با کلمات مناسب تکمیل نمایید.</p>	<p>الف) بخش اصلی فلسفه درصدد بحث و بررسی اصل و حقیقت است. ب) باورهای انسان، نقش تعیین‌کننده در انتخاب دارند. ج) در آغاز شکل‌گیری فلسفه در یونان باستان، مسئله‌ای که اندیشمندان را به خود مشغول می‌داشت، بود. د) در روش پرسش و پاسخ سقراطی، او می‌خواست مخاطب را به برساند. ه) شک در اصل دانستن و همه دانسته‌ها، با سازگار نیست. و) فلاسفه مسلمان معاصر، معرفت فلسفی را متکی بر می‌دانند و بدون آن فلسفه اساساً وجود ندارد. ز) داروینیست‌ها درباره پیدایش انسان از حیوان، نتایج گرفتند. ح) درانسان شناسی ابن سینا، روح انسانی از جنس است.</p>
--	---	---

(آزمون نهایی ۱۶ خردادماه ۱۴۰۳ - فلسفه ۱)

۰/۵		<p>مصحح شو:</p> <p>از جهت موضوع (۰/۲۵) یا روش (۰/۲۵).</p> <p>بررسی دقیق تر:</p> <p>دانش‌ها از دو جهت با یکدیگر مختلف و متمایز می‌شوند: یا از جهت موضوع یا از جهت روش. به‌عنوان مثال، شیمی و فیزیک روش یکسانی دارند (روش تجربی) ولی موضوع آن‌ها متفاوت است.</p>
-----	--	--

(آزمون شبیه‌ساز نهایی خردادماه ۱۴۰۳ - فلسفه ۱)

	<p>به سؤالات زیر پاسخ کوتاه دهید.</p>	<p>دانش فلسفه و فیزیک از چه جهاتی قابل تمایز هستند؟</p>
--	--	---

(آزمون نهایی ۱۶ خردادماه ۱۴۰۳ - فلسفه ۱)

خاطره بازی...



نکته تکمیلی:	
فوائد تفکر فلسفی	۱- دوری از مغالطه‌ها ۲- استقلال در اندیشه ۳- رهایی از عادت‌های غیرمنطقی
دوری از مغالطه‌ها	فلسفه از توانایی منطقی تشخیص مغالطه‌ها و خارج کردن آن‌ها از باورها کمک می‌گیرد تا اندیشه‌های درست از تفکرات غلط تشخیص داده شود و راه رسیدن به اعتقادات درست هموار گردد. فیلسوفان می‌کوشند با کاستن از مغالطه‌ها، فهم درستی از حقایق، چه در عالم هستی و چه در مسائل بنیادی زندگی، ارائه دهند و آن را با گفتار مناسبی که خالی از مغالطه باشد، بیان کنند.
استقلال در اندیشه	فیلسوف واقعی هیچ سخنی را بدون دلیل نمی‌پذیرد و عقیده‌اش را بر پایه خیالات، تلیفات و تعصب بنا نمی‌کند. او درباره استدلال‌ها می‌اندیشد و اگر به درستی‌شان پی ببرد، آن‌ها را می‌پذیرد.
رهایی از عادت‌های غیرمنطقی	در بسیاری از مواقع، افراد یک جامعه افکاری را می‌پذیرند که پشتوانه عقلی و منطقی محکمی ندارند، بلکه بر اثر مرور زمان و یا انتقال از نسلی به نسل بعد، به صورت یک عادت درآمده است و اکثر افراد جامعه، بدون دلیل، آن‌ها را پذیرفته‌اند. افراد متفکر این جوامع، این قبیل افکار را مورد ارزیابی قرار می‌دهند و اگر منطبق با عقل نبود، آن‌ها را نمی‌پذیرند و تلاش می‌کنند سایرین را نیز به باطل بودن آن افکار آگاه کنند.
فرق فیلسوف با مردمان دیگر	عموم مردم در مسائل بنیادین فلسفی می‌اندیشند و نظر می‌دهند ولی فیلسوف؛ اولاً درباره مسائل بنیادین فلسفی به نحو جدی فکر می‌کند، ثانیاً با روش درست وارد این قبیل مسائل می‌شود و پاسخ می‌دهد. او تابع برهان و استدلال است؛ نه تابع افراد و اشخاص.

(آزمون شبیه‌ساز نهایی ۱۴۰۲/۰۸/۲۶ - فلسفه ۱)

۰.۷۵	تفاوت بین فیلسوف با مردم عادی را بیان کنید.	۸
------	---	---

(آزمون نهایی ۱۶ خردادماه ۱۴۰۳ - فلسفه ۱)

۳	<p>• شهرت او در تاریخ فلسفه به دو دلیل است:</p> <p>۱) وحدت اضداد: معتقد بود اموری که با هم ضد هستند، می‌توانند با هم جمع شوند، مثل سربالایی و سرپایینی در کوه یا پر و خالی در لیوان. وجود اضداد است که جهان را می‌سازد و گریزی از ستیز و تضاد نیست.</p> <p>۲) تغییر و تحول دائمی جهان: می‌گفت همه چیز در سیلان و حرکت است و هیچ چیز ثابتی وجود ندارد. دگرگونی قانون زندگی و کائنات است که بر همه چیز فرمان می‌راند و نمی‌توان از آن گریخت. نمی‌توان در یک رودخانه دو بار شنا کرد.</p>	هراکلیتوس
---	---	-----------

(آزمون شبیه‌ساز نهایی ۱۴۰۲/۱۰/۰۷ - فلسفه ۱)

۰.۵	منظور هراکلیتوس از عبارت «در یک رودخانه نمی‌توان دوبار شنا کرد.» را بیان کنید.	۹
-----	--	---

(آزمون نهایی ۱۶ خردادماه ۱۴۰۳ - فلسفه ۱)

خاطره بازی...



۲	عقیده هراکلیتوس و پارمنیدس را در مورد هستی و جهان واقع، مقایسه کنید.	۱۵
---	--	----

(آزمون شبیه‌ساز نهایی ۱۴۰۲/۰۸/۲۶ - فلسفه ۱)

۰.۵	دو مورد از ویژگی‌های هستی را از نظر پارمنیدس بیان کنید.	۱۰
-----	---	----

(آزمون نهایی ۱۶ خردادماه ۱۴۰۳ - فلسفه ۱)

	<p>نکته طلایی: دقت کنید که سخن سروش معبد دلفی این بود که داناترین آدمیان سقراط است؛ اما بنا به گفته خود سقراط، مفهوم راز این بود که داناترین آدمیان کسی است که مانند سقراط می‌داند که هیچ نمی‌داند.</p>	
--	---	--

(آزمون شبیه‌ساز نهایی ۱۴۰۲/۱۰/۰۷ - فلسفه ۱)

۰.۵	از نظر سقراط داناترین آدمیان چه کسی است؟	۱۱
-----	--	----

(آزمون نهایی ۱۶ خردادماه ۱۴۰۳ - فلسفه ۱)

۰/۷۵	چگونگی ایجاد شناخت و معرفت از نظر کانت را بنویسید.	۱۹
------	--	----

(آزمون شبیه‌ساز نهایی مارکوپولو - فلسفه ۱)

۱	کانت همکاری حس و عقل را در کسب معرفت، چگونه تبیین می‌کند؟	۱۹
---	---	----

(آزمون نهایی ۱۶ خردادماه ۱۴۰۳ - فلسفه ۱)

خاطره بازی...



۱	از نظر فلاسفه مسلمان علت انجام رذایل توسط انسان‌ها چیست؟	۱۱
---	--	----

(آزمون شبیه‌ساز نهایی ۱۴۰۳/۰۲/۱۴ - فلسفه ۱)

۱	دلیل انجام رذیلت‌ها توسط انسان از نظر فلاسفه مسلمان را توضیح دهید.	۲۴
---	--	----

(آزمون شبیه‌ساز نهایی خردادماه ۱۴۰۳ - فلسفه ۱)

۱	چرا از نظر فیلسوفان مسلمان، با اینکه بشر فطرتاً علاقمند به فضایل است، اما مرتکب رذایل اخلاقی می‌شود؟ موفق باشید.	۲۴
---	---	----

(آزمون نهایی ۱۶ خردادماه ۱۴۰۳ - فلسفه ۱)

خاطره بازی...



۰/۷۵	با توجه به آموزه‌های کتاب فارسی، منظور از قسمت‌های مشخص شده چیست؟ الف) هیچ‌کس استحقاق خزانگی و خزانهداری آن <u>گوهر</u> نیافته، خزانگی آن را دل آدم لایق بود. ب) معلم عربی پیش آمد و با همان لهجه غلیظ شیرازی گفت: به‌به! مثل قوآل‌ها صورتک زدی؟ پ) مردمی که به <u>خانه‌های تاریک</u> و <u>بی‌دریجه</u> عادت کرده‌اند، از پنجره‌های باز و نورگیر گریزانند.	۳۲
------	---	----

(آزمون شبیه‌ساز نهایی درس فارسی ۲)

ردیف	سؤالات (پاسخ نامه دارد)	نمره
۳۶	هر یک از عبارات زیر بیانگر کدام دیدگاه است؟ الف) مردمی که به خانه‌های تاریک و بی‌دریجه عادت کرده‌اند، از پنجره‌های باز و نورگیر، گریزان هستند؛ آخر چشمشان را می‌زند و خسته‌شان می‌کند. ب) ما به فلک بوده‌ایم، یار مَلک بوده‌ایم باز همان جا رویم، جمله که آن شهرماست. ج) و تو شکر خدا کن، به هنگام رنج / و شکر او کن، به وقت رستن از رنج	۰.۷۵

(آزمون نهایی ۱۹ خردادماه ۱۴۰۳ درس فارسی ۲)

خاطره بازی...



۰/۵	املاي درست را از داخل کمانک انتخاب کنید.	۳
	الف) چون موسم حج رسید برخاست ب) در زمان انداخت شمشیر آن علی	
	اشتر طلبید و (محمل / مهمل) آراست کرد او اندر (قضایش / غزایش) کاهلی	

(آزمون شبیه‌ساز نهایی درس فارسی ۲)

۱	در هر عبارت املاي یک واژه نادرست است؛ شکل صحیح آن‌ها را بنویسید. الف) چون موسم حج رسید، برخاست ب) ایشان حقوق مرا به طاعت و مناصحت بگذارند و به معونت و مظاهرت ایشان از دست صیاد بجستم. ج) سپیده فردای گنجه با نحبیب و صفیر گلوله‌های توپ روس، باز شد. د) دلم را بده عظم بر بندگی اشتر طلبید و مهمل آراست نه چون بی‌عمانم هوسناک کن	۵
---	--	---

(آزمون نهایی ۱۹ خردادماه ۱۴۰۳ درس فارسی ۲)

خاطره بازی...



۱	در گروه واژگان زیر، غلط‌های املایی را بیابید و شکل درست آنها را بنویسید. «همت و حمیت - طوع و رقبت - حسن سیرت و صباحت - الحاح و اصرار - ترجیه و برتری - خوار و زبون»	۵
---	--	---

(آزمون شبیه‌ساز نهایی درس فارسی ۲)

۰.۵	از میان گروه‌های زیر، املاي دو واژه درست نیست؛ شکل درست آن‌ها را بنویسید. «الحاح و اسرار - رشحه و قطره - زهاب‌دیدگان - یغور و درشت - خوان و طبق - رغبت و خاست»	۶
-----	---	---

(آزمون نهایی ۱۹ خردادماه ۱۴۰۳ درس فارسی ۲)

خاطره بازی...



۵	از نمونه‌های داخل کمانک، املاي چند مورد نادرست است، تصحيح کنید. (سراجة ذهنم آماس می‌کرد)، (به من آورید آخر، صنم گریز پا را) (وذر و وبال این، چه به کار آید) (عالم در آن یاب بر همه، فایق)، (قیافه یغورم، عینک کذایی‌ام)، (به خاطر روشنایی‌اش سپاسگزاری کن)
---	---

(آزمون شبیه‌ساز نهایی درس فارسی ۲)

۶	از میان گروه‌های زیر، املاي دو واژه درست نیست؛ شکل درست آن‌ها را بنویسید. « الجاح و اسرار - رشحه و قطره - زهاب دیدگان - یغور و درشت - خوان و طبق - رغبت و خاست »
---	---

(آزمون نهایی ۱۹ خردادماه ۱۴۰۳ درس فارسی ۲)

خاطره بازی...



۱۷	از بین آثار زیر، نام پدیدآورنده کدام اثر <u>نادرست</u> نوشته شده است؟ (فرهاد و شیرین: وحشی یاقفی)، (شلواریهای وصله‌دار: نادر ایراهیمی)، (روضه خلد: مجد خوافی)، (حملة حیدری: باذل مشهدی)، (تحفه‌الاحرار: جامی)، (روزها: اسلامی ندوشن)
----	--

(آزمون شبیه‌ساز نهایی درس فارسی ۲)

۲۵	در هر گروه نام یکی از پدیدآورندگان آثار به درستی بیان نشده است؛ درست آن‌ها را بنویسید. الف) روزها: دکتر محمدعلی اسلامی ندوشن - اسرار التوحید: محمد عوفی - بهارستان: جامی ب) روضه خلد: مجد خوافی - شلواریهای وصله‌دار: کامور بخشایش - هم‌صدا با حلق اسماعیل: سید حسن حسینی
----	---

(آزمون نهایی ۱۹ خردادماه ۱۴۰۳ درس فارسی ۲)

خاطره بازی...



۰/۵	نام آفرینندگان آثاری را که نویسنده آنها نادرست ذکر شده، بنویسید. الف) فرهاد و شیرین: وحشی بافقی ب) پرنده‌ای به نام آذرباد: رابیندرانات تاگور پ) هم صدا با حلق اسماعیل: قیصر امین‌پور ت) چشمه روشن: غلامحسین یوسفی	۱۷
-----	---	----

(آزمون شبیه‌ساز نهایی درس فارسی ۲)

۰.۵	در هر گروه نام یکی از پدیدآورندگان آثار به درستی بیان نشده است؛ درست آن‌ها را بنویسید. الف) روزها: دکتر محمدعلی اسلامی ندوشن - اسرار التوحید: محمد عوفی - بهارستان: جامی ب) روضه خلد: مجد خوافی - شلوارهای وصله دار: کامور بخشایش - هم صدا با حلق اسماعیل: سید حسن حسینی	۲۵
-----	--	----

(آزمون نهایی ۱۹ خردادماه ۱۴۰۳ درس فارسی ۲)

خاطره بازی...



۰/۵	هر یک از مصراع‌های زیر با کدام گزینه کامل می‌شود؟	۱۴
	الف) کز دیو و دد ملولم و انسامم آرزوست	۱- زمین هم‌رهان سست‌عنصر دلم گرفت
	ب) ۲- دی شیخ با چراغ همی گشت گرد شهر عشق با آزار خویشاوندی دیرینه دارد	۲- خواستم از رنجش دوری بگویم، یادم آمد
	ج) ۲- بی تو می‌گویند تعطیل است کار عشقبازی	

(آزمون شبیه‌ساز نهایی درس فارسی ۲)

۱	<p>به سؤالات زیر پاسخ دهید.</p> <p>الف) مصراع‌ی از شعر «زاغ و کبک» را بنویسید که در آن، واژه «قاعده» وجود دارد؟</p> <p>ب) کدامیک از موارد زیر، تکمیل‌کننده مصراع «خواستم از رنجش دوری بگویم، یادم آمد» است؟</p> <p>۱- عشق‌اما کی خبر از سنبه و آدینه دارد</p> <p>۲- عشق با آزار خویشاوندی دیرینه دارد</p> <p>ج) با توجه به شعرهای حفظی در هر یک از ابیات زیر، برخی واژه‌ها جا به جا شده‌اند؛ آنها را در جای خود قرار دهید.</p> <p>۱- رود گرد ز خاکت به باد آن ذره به خون من آغشته باد</p> <p>۲- دی شیخ همی گشت با چراغ گرد شهر کز دیو و دد ملولم و انسامم آرزوست</p>	۲۷
---	--	----

(آزمون نهایی ۱۹ خردادماه ۱۴۰۳ درس فارسی ۲)

خاطره بازی...



۰/۲۵	کتاب «دیوان شرقی - غربی» اثر کدام شخصیت جهانی است؟	۱۸
------	--	----

(آزمون شبیه‌ساز نهایی درس فارسی ۲)

۴۴	در عبارات زیر، گزینه درست را انتخاب کنید. الف) شیخ عطار، کتاب «اسرارنامه» و «منطق الطیر» را به جلال الدین (مولانا) خردسال هدیه داد. ب) نثر درس «کاوه دادخواه» برگرفته از کتاب «چشمه روشن غلامحسین یوسفی» از نوع ادبیات تعلیمی است. ج) شعر «درامواج سند» سروده «مهدی حمیدی شیرازی» و شرح دل‌آوری‌های جلال الدین خوارزمشاهی است. د) کتاب «ماه نو و مرغان آواره» اثر یوهان ولفگانگ گوته و «دیوان غربی-شرقی» اثر رابیندرانات تاگور است.	
----	---	--

(آزمون نهایی ۱۹ خردادماه ۱۴۰۳ درس فارسی ۲)

خاطره بازی...



۰/۲۵	در بیت زیر کدام‌یک از زمینه‌های حماسه وجود دارد؟ بر آن گرزۀ گاوسر دست برد بزد بر سرش ترگ بشکست خرد	۲۰
------	--	----

(آزمون شبیه‌ساز نهایی درس فارسی ۲)

۰/۲۵	کدام ویژگی شعر حماسی در بیت زیر دیده می‌شود؟ «همی رفت پیش اندرون مرد گُرد سپاهی بر او انجمن شد، نه خُرد» الف) مَلّی ب) قهرمانی ج) قهرمانی و مَلّی	۱۹
------	--	----

(آزمون نهایی ۱۹ خردادماه ۱۴۰۳ درس فارسی ۲)

خاطره بازی...



گزینه مناسب را انتخاب کنید:

الف) تنوع زیستی در کدام یک از سطوح زیر بررسی نمی‌شود؟

- (۱) بوم سازگان (۲) اقلیم (۳) گونه (۴) ژن


(آزمون جامع شبیه‌ساز نهایی درس انسان و محیط زیست)

ج) زباله های هسته ای در گروه زباله های جای می گیرند.

د) تنوع زیستی معمولا در سه سطح بوم سازگان، و ژن بررسی می شود.

(آزمون نهایی ۲۱ خردادماه ۱۴۰۳ درس انسان و محیط زیست)

خاطره بازی...



۷- انقراض	ت) هنگامی که محیط زیست برای حیات جاننداری مناسب نباشد و گونه به طور کامل نابود شود.
۸- حذف فیزیکی	

(آزمون جامع شبیه‌ساز نهایی درس انسان و محیط زیست)

۱	لاک پشت بوزه عقابی که در سواحل خلیج فارس و دریای عمان زندگی می‌کند در معرض خطر انقراض می‌باشد: الف) منظور از انقراض چیست؟ ب) دو راهکار برای جلوگیری از انقراض این جانور را بنویسید.	۲۱
---	---	----

(آزمون نهایی ۲۱ خردادماه ۱۴۰۳ درس انسان و محیط زیست)

خاطره بازی...



۷	یا استفاده از کلمات داده شده به سوالات زیر پاسخ دهید. (چهار مورد اضافی است) (زیست بوم - خانه مسافر - منطقه حفاظت شده - گونه‌های بوم‌زاد - آثار طبیعی ملی - پارک‌های ملی - گونه‌های رو به افزایش - کاروان‌سرا) الف) کدام گونه‌ها منحصر به یک منطقه جغرافیایی خاص هستند و در جای دیگری وجود ندارند؟ ب) به محدوده‌ای از منابع طبیعی کشور که نمایانگر نمونه‌های برجسته‌ای از مظاهر طبیعی است چه می‌گویند؟ پ) اراضی‌ای که به منظور حراست و احیای حیات جانوری و گیاهی و جلوگیری از انهدام تدریجی آن‌ها انتخاب می‌شوند چه نام دارد؟
---	--

(آزمون جامع شبیه‌ساز نهایی درس انسان و محیط زیست)

پاسخ‌های مناسب را از ستون سمت چپ انتخاب نمایید. (یک مورد اضافه می‌باشد)	
الف) پناهگاه حیات وحش	۱- اراضی دارای ارزش استراتژیک، برای جلوگیری از انهدام تدریجی گونه‌ها
ب) آثار طبیعی ملی	۲- مکان‌هایی برای حفظ و تکثیر جانوران وحشی در شرایط کاملاً طبیعی
ج) منطقه حفاظت شده	۳- محیط‌های مناسبی برای فعالیت‌های آموزشی و پژوهشی
د) پارک ملی	

(آزمون نهایی ۲۱ خردادماه ۱۴۰۳ درس انسان و محیط زیست)

خاطره بازی...



ج) عبارت زیر مربوط به کدام پدیده طبیعی کشورمان است؟

«این پدیده به دلیل وجود سازه‌های آبی - تاریخی و اماکن فرهنگی موجود در آن اهمیت زیادی دارد و دومین میراث طبیعی ایران بعد از کوه دماوند است»

۱) باداب سورت

۲) تالاب کانی برازان مهاباد

۳) منطقه رودبارک سمنان

۴) ژئوپارک قشم

(آزمون جامع شبیه‌ساز نهایی درس انسان و محیط زیست)

ج) باور سازگار با محیط زیست به حفاظت از (گاندو - گوزن زرد ایرانی) در کشورمان کمک کرده است.

د) چشمه باداب سورت استان مازندران، دومین میراث (طبیعی - فرهنگی) کشور ایران می باشد.

(آزمون نهایی ۲۱ خردادماه ۱۴۰۳ درس انسان و محیط زیست)

خاطره بازی...



۱	<p>۳ از میان عوامل تهدید کننده تنوع زیستی که در زیر به آن اشاره شده، مشخص کنید که هر عبارت مربوط به کدام مورد می‌باشد. (یک مورد اضافی است)</p> <p>(تخریب زیستگاه - برداشت بی رویه و استفاده ناپایدار - آلودگی محیط زیست - گونه‌های بیگانه مهاجم - تغییر اقلیم)</p> <p>الف) این عامل، موجب تغییر محدوده جغرافیایی پراکنش گونه‌ها می‌شود.</p> <p>ب) تولد جانوران با ناهنجاری‌های مادرزادی از عوارض آن می‌باشد.</p> <p>پ) مهم‌ترین عامل از دست رفتن تنوع زیستی می‌باشد.</p> <p>ت) بیش‌تر بودن سرعت برداشت و بهره‌برداری تنوع زیستی از بازسازی آن</p>
---	---

(آزمون جامع شبیه‌ساز نهایی درس انسان و محیط زیست)

۱	<p>هر یک از موارد زیر جزء کدام یک از عوامل تهدید کننده تنوع زیستی هستند؟</p> <p>الف) تولد جانوران ناهنجار</p> <p>ب) فراوانی آفات و بیماری‌ها</p> <p>ج) صید انبوه</p> <p>د) خشک کردن تالاب‌ها</p>	۱۸
---	--	----

(آزمون نهایی ۲۱ خردادماه ۱۴۰۳ درس انسان و محیط زیست)

خاطره بازی...



۰.۱۷۵	۶	هر یک از مثال‌های زیر با کدام یک از انواع آلودگی‌ها در ارتباط است؟ الف) به کار بردن مقدار زیادی از مواد شوینده، در محیطی بسته.
-------	---	---

(آزمون جامع شبیه‌ساز نهایی درس انسان و محیط زیست)

۰.۲۵	۱۴	خانمی که به صورت مداوم از مواد شوینده استفاده می‌کند در معرض کدام آلودگی هوا قرار می‌گیرد؟ کدام بیماری‌ها در این فرد زیاد است؟ (دو مورد کافی است)
------	----	--

(آزمون نهایی ۲۱ خردادماه ۱۴۰۳ درس انسان و محیط زیست)

خاطره بازی...



۱	جمله زیر را با توجه به تصویر داده شده کامل کنید.	۱۱
	36) Unfortunately, my father ----- yet. (Quit)	

(آزمون جامع شبیه‌ساز نهایی درس زبان انگلیسی ۲)

۲	با توجه به تصاویر داده شده، جملات ناقص زیر را کامل کنید.	۱۲
	39) A: How much ----- every day? B: I drink a lot of water every day.	
	40) A: Why are you sad? B: My friend is in hospital and he doesn't feel well. A: Oh, no! I guess he ----- smoking yet. B: Honestly, not!	

(آزمون نهایی ۲۳ خردادماه ۱۴۰۳ درس زبان انگلیسی ۲)

خاطره بازی...



۱/۵	۷ برای هر کلمه مشخص شده از ستون A یک تعریف از ستون B پیدا کنید. (یک تعریف در ستون B اضافی است.)		۶
	A	B	
	26) Young people need to understand how to enjoy a balanced diet and active lifestyle. 27) I reflected on the child's future. 28) I'm proud of my Iranian identity .	a) Who or what a thing or person is b) with all parts existing in the correct amounts c) to think carefully about d) to show something	

(آزمون جامع شبیه‌ساز نهایی درس زبان انگلیسی ۲)

۱.۵	برای هر کلمه از ستون A یک تعریف از ستون B پیدا کنید. (یک تعریف اضافی است.)		۶
	A	B	
	22) I enjoyed the week despite the rainy weather. 23) His music reflects his interest in African culture. 24) Let's measure the table in the kitchen.	a. to find the exact size of something b. who or what a thing or person is c. without taking any notice of d. to show something	

(آزمون نهایی ۲۳ خردادماه ۱۴۰۳ درس زبان انگلیسی ۲)

خاطره بازی...



۱	منظور از انسان‌گرایی (اومانیزم) چیست؟ در مورد آن به اختصار توضیح دهید.	۱۸
---	--	----

(آزمون جامع شبیه‌ساز نهایی درس تاریخ (۱))

۱	منظور از انسان‌گرایی (اومانیزم) چیست؟ در مورد آن به اختصار توضیح دهید.	۱۸
---	--	----

(آزمون نهایی ۲۶ خردادماه ۱۴۰۳ درس تاریخ (۱))

خاطره بازی...



۳	توصیف، فهرست و طبقه‌بندی اجزا یا ویژگی‌های پدیده‌های تاریخی. (هر مورد ۰/۵) الف) دو مورد از گروه‌های مخالف برپایی حکومت اسلامی که بر علیه پیامبر و مسلمانان توطئه می‌کردند را نام ببرید.	۹
---	--	---

(آزمون جامع شبیه‌ساز نهایی درس تاریخ (۱))

	توصیف، فهرست و طبقه‌بندی اجزا یا ویژگی‌های پدیده‌های تاریخی: (هر مورد ۰.۵) الف- مهم‌ترین مخالفان امت و حکومت نوپای اسلامی در عصر پیامبر(ص) چه گروه‌هایی بودند؟ (ذکر دو مورد کافی است)	
--	--	--

(آزمون نهایی ۲۶ خردادماه ۱۴۰۳ درس تاریخ (۱))

خاطره بازی...



۱	<p>جاهای خالی را با عدد یا عبارت مناسب کامل کنید.</p> <p>الف) گزاره‌ای که به صورت « اگر p آنگاه q و برعکس » بیان می‌شود، دارای ترکیب است.</p> <p>ب) اگر f تابعی ثابت باشد، حاصل $f(۳) - f(۵)$ برابر است.</p> <p>پ) اگر $n = ۲$ باشد، زوج مرتب $(n+۱, \dots)$ روی نیمساز ناحیه اول و سوم قرار دارد.</p> <p>ت) تغییر متوسط کالاها و خدمات در طول زمان را می‌نامند.</p>
---	--

(آزمون نهایی ۳۰ خردادماه ۱۴۰۳ - ریاضی و آمار ۲)

۲	<p>جاهای خالی را با عبارت مناسب پر کنید.</p> <p>الف) یک معیار آماری است که تغییرات نسبی در جامعه آماری را مشخص می‌کند و متوسط مبلغ پرداخت شده از سوی مصرف‌کنندگان برای تعداد زیادی کالا و خدمت در طول یک سال است که تحولات قیمت را بر مبنای یک سال پایه نشان می‌دهد.</p> <p>ب) تغییر متوسط قیمت کالاها و خدمات در طول زمان را می‌نامند و متن، میزان سهولت درک متن از طریق انتخاب واژه‌های مناسب و رعایت دستور نگارشی است.</p>
---	---

(آزمون شبیه‌ساز نهایی - ۱۴۰۳/۰۲/۲۱)

۱۸	<p>اگر سید هزینه خانواده‌ای شامل دو کالای برنج و گوشت باشد و قیمت این دو کالا (برحسب هزار تومان) در سال پایه به ترتیب ۸۰ و ۵۰۰ باشد و در سال موردنظر به ۱۲۰ و ۷۰۰ برسد، با فرض اینکه مقادیر مصرفی برنج و گوشت در سال پایه به ترتیب ۶۰ و ۴۰ کیلوگرم باشد، شاخص بهای این دو کالا را به دست آورید.</p>
----	---

(آزمون نهایی ۳۰ خردادماه ۱۴۰۳ - ریاضی و آمار ۲)

۷	<p>سید هزینه خانواری از دو کالای نان و مرغ تشکیل شده است. قیمت هر کیلو نان و مرغ در سال پایه به ترتیب ۴۰۰ و ۶۰۰۰ تومان است و در سال ۱۴۰۱، ۱۰۰۰ و ۲۰۰۰۰ تومان است. اگر مقدار مصرفی نان و مرغ در سال به ترتیب ۵۰ و ۲۰ کیلوگرم باشد، شاخص بهای این دو کالا در سال ۱۴۰۱ را محاسبه کنید.</p>
---	---

(آزمون شبیه‌ساز نهایی - ۱۴۰۳/۰۲/۲۱)

۶	<p>با استفاده از جدول ارزش‌ها درستی هم‌ارزی $(p \Rightarrow q) \equiv (\sim p \vee q)$ را نشان دهید.</p>
---	---

(آزمون نهایی ۳۰ خردادماه ۱۴۰۳ - ریاضی و آمار ۲)

۶	<p>جدول ارزش‌گذاری گزاره $(q \vee \sim p) \Rightarrow (\sim q \wedge p)$ را کامل کنید.</p> <table border="1" style="margin-left: auto; margin-right: auto;"> <thead> <tr> <th>p</th> <th>q</th> <th>$\sim p$</th> <th>$\sim q$</th> <th>$(q \vee \sim p)$</th> <th>$(\sim q \wedge p)$</th> <th>$(q \vee \sim p) \Rightarrow (\sim q \wedge p)$</th> </tr> </thead> <tbody> <tr> <td></td> <td></td> <td></td> <td></td> <td></td> <td></td> <td></td> </tr> </tbody> </table>	p	q	$\sim p$	$\sim q$	$(q \vee \sim p)$	$(\sim q \wedge p)$	$(q \vee \sim p) \Rightarrow (\sim q \wedge p)$							
p	q	$\sim p$	$\sim q$	$(q \vee \sim p)$	$(\sim q \wedge p)$	$(q \vee \sim p) \Rightarrow (\sim q \wedge p)$									

(آزمون شبیه‌ساز نهایی - ۱۴۰۲/۰۸/۱۲)

خاطره بازی...



۰.۵	اگر گزاره‌های درست و q گزاره‌های نادرست و r گزاره‌ای دلخواه باشد، در این صورت ارزش گزاره $(p \leftrightarrow q) \Rightarrow r$ را مشخص کنید.	۵
-----	--	---

(آزمون نهایی ۳۰ خردادماه ۱۴۰۳ - ریاضی و آمار ۲)

۳/۷۵	اگر گزاره‌های درست، q گزاره‌های نادرست و r گزاره‌ای دلخواه باشد، ارزش هر یک از گزاره‌های زیر را مشخص کنید. الف) $(\sim p \vee (q \Rightarrow r)) \Leftrightarrow (r \Rightarrow \sim q)$ ب) $(p \wedge (q \vee r)) \Rightarrow (p \Rightarrow r)$	۸
------	---	---

(آزمون شبیه‌ساز نهایی - ۱۴۰۲/۰۸/۱۲)

۰.۷۵	اگر دامنه‌ی تابع $f(x) = x^2 + 1$ برابر $D = \{-1, 0, 2\}$ باشد، برد تابع را به دست آورید.	۱۰
------	--	----

(آزمون نهایی ۳۰ خردادماه ۱۴۰۳ - ریاضی و آمار ۲)

۰/۷۵	اگر $f(x) = 2x^2 - 1$ و $A = \{-1, 0, 1\}$ ، برد تابع f را مشخص کنید.	۸
------	---	---

(آزمون شبیه‌ساز نهایی - مارکوپولو)

۱.۷۵	اگر $f = \{(5, a+1), (6, c), (2b, 10)\}$ یک تابع همانی باشد، حاصل $\frac{a+c}{b}$ را بیابید.	۱۱
------	--	----

(آزمون نهایی ۳۰ خردادماه ۱۴۰۳ - ریاضی و آمار ۲)

۱	اگر $f = \{(-5, a+1), (2a-1, b+2), (c, b-1)\}$ یک تابع همانی باشد، حاصل $a+b+c$ را به دست آورید.	۹
---	--	---

(آزمون شبیه‌ساز نهایی - مارکوپولو)

۲	اگر $f = \{(2, 5), (-1, 0), (3, 7)\}$ و $g = \{(2, 2), (3, 6), (0, 1)\}$ باشد: الف) توابع $f-g$ و $f \times g$ را مشخص کنید. ب) مقدار $(\frac{f}{g})(2)$ را حساب کنید.	۱۵
---	--	----

(آزمون نهایی ۳۰ خردادماه ۱۴۰۳ - ریاضی و آمار ۲)

۰/۷۵	اگر $f = \{(-7, 2), (1, 4), (3, 7), (4, 2)\}$ و $g = \{(1, 2), (2, 5), (4, 0)\}$ باشند، تابع $\frac{f}{g}$ را به دست آورید.	۱۴
------	---	----

(آزمون شبیه‌ساز نهایی - مارکوپولو)

خاطره بازی...



۰۰۷۵	در یک منطقه از میان افراد ۱۶ ساله و بیشتر، تعداد ۱۲۰۰ نفر شاغل و ۳۰۰ نفر بیکار هستند. نرخ بیکاری در این منطقه را به دست آورید.	۱۹
------	--	----

(آزمون نهایی ۳۰ خردادماه ۱۴۰۳ - ریاضی و آمار ۲)

۱/۵	در یک منطقه ۲۸۰۰ نفر از افراد ۱۶ سال به بالا شاغل و در این منطقه ۷۰۰ نفر بیکارند. الف) نرخ بیکاری در این منطقه چقدر است؟ ب) حداقل چند شغل جدید در این منطقه ایجاد شود تا نرخ بیکاری برابر ۵ درصد شود؟	۱۷
-----	---	----

(آزمون شبیه‌ساز نهایی - مارکوپولو)

۱	در یک شهر ۴۰۰۰ فرد فعال وجود دارد که ۸۰۰ نفر آن‌ها بیکار هستند. با ایجاد حداقل چند شغل دیگر نرخ بیکاری در این شهر ۱۲ درصد می‌شود؟	۹
---	---	---

(آزمون شبیه‌ساز نهایی - ۱۴۰۳/۰۲/۲۱)

۱	درسولات زیر گزینه صحیح را انتخاب کنید. الف) کدامیک از جملات زیر گزاره است؟ ۱) لطفا در را باز کن. ۲) چه هوای سردی! ۳) شما اهل کجایی؟ ۴) عدد ۷ عددی اول است. ب) هم‌ارز گزاره‌ی $(p \wedge q)$ ~ کدام گزاره است؟ ۱) $(p \vee q)$ ~ ۲) $(p \vee \sim q)$ ۳) $(\sim p \vee \sim q)$ ۴) $(p \wedge \sim q)$	۳
---	---	---

(آزمون نهایی ۳۰ خردادماه ۱۴۰۳ - ریاضی و آمار ۲)

۱	گزینه درست را انتخاب کنید. الف) کدام گزینه یک گزاره است؟ ۱) امروز هوا لذت بخش است. ۲) برای قبولی در امتحان باید کتاب درسی را مطالعه کرد. ۳) ارسطو شاگرد افلاطون است. ۴) عدد ۲۷۹۶۳۱ عددی بزرگ است. ب) اگر $f(x) = (a+2)x + a$ تابعی ثابت باشد، $f(4)$ کدام است؟ ۱) -۲ ۲) ۲ ۳) -۴ ۴) ۴	۳
---	---	---

(آزمون شبیه‌ساز نهایی مرحله ۱۰ - ۱۴۰۳/۰۳/۲۹)

۰۰۷۵	درآمد ماهیانه ۷ نفر از کارمندان یک شرکت برحسب میلیون تومان به صورت زیر است : ۱۳ و ۳۰ و ۴ و ۱۲ و ۵ و ۱۰ و ۲۰ خط فقر را به روش نصف میانه، محاسبه کنید.	۱۷
------	--	----

(آزمون نهایی ۳۰ خردادماه ۱۴۰۳ - ریاضی و آمار ۲)

۱۸ (۴)	د) اگر برای یک جامعه میانگین درآمد ماهانه هر فرد به صورت ۱۷، ۱۲، ۴۲، ۱۸، ۲۰ باشد، خط فقر مناسب برای این جامعه کدام است؟ (درآمدها برحسب میلیون تومان است).	۶ (۱)
۹ (۳)		۱۲ (۲)

(آزمون شبیه‌ساز نهایی مرحله ۱۰ - ۱۴۰۳/۰۳/۲۹)

خاطره بازی...



۰.۷۵	جدول مالیاتی که توسط هیئت مدیره یک شرکت برای سال مالی جدید آماده و تصویب شده، به صورت زیر است :		۱۳
	حقوق ماهیانه (برحسب تومان)	نرخ مالیات (درصد)	
	حقوق تا ۸,۰۰۰,۰۰۰	معاف از مالیات	
	مزداد بر ۸,۰۰۰,۰۰۰ تا ۱۲,۰۰۰,۰۰۰	۱۰	
	مزداد بر ۱۲,۰۰۰,۰۰۰	۱۵	
کارمندی با حقوق ۱۰,۰۰۰,۰۰۰ تومان، چقدر مالیات باید بپردازد؟			

(آزمون نهایی ۳۰ خردادماه ۱۴۰۳ - ریاضی و آمار ۲)

۰.۷۵	جدول هزینه پلکانی مصرف برق در یک استان به صورت زیر است. اگر خانواده‌ای در این استان ۳۸۰ کیلووات ساعت برق در یک ماه مصرف کند، هزینه برق آن‌ها چند تومان است؟	۹												
	<table border="1"> <thead> <tr> <th>پله‌های مصرف ماهانه (کیلووات ساعت)</th> <th>هزینه هر کیلووات ساعت (برحسب ریال)</th> </tr> </thead> <tbody> <tr> <td>مصرف ۰ تا ۱۰۰</td> <td>۵۵۰</td> </tr> <tr> <td>مزداد بر ۱۰۰ تا ۲۰۰</td> <td>۵۷۵</td> </tr> <tr> <td>مزداد بر ۲۰۰ تا ۳۰۰</td> <td>۱۱۱۰</td> </tr> <tr> <td>مزداد بر ۳۰۰ تا ۴۰۰</td> <td>۱۷۵۰</td> </tr> <tr> <td>مزداد بر ۴۰۰</td> <td>۲۰۸۰</td> </tr> </tbody> </table>	پله‌های مصرف ماهانه (کیلووات ساعت)	هزینه هر کیلووات ساعت (برحسب ریال)	مصرف ۰ تا ۱۰۰	۵۵۰	مزداد بر ۱۰۰ تا ۲۰۰	۵۷۵	مزداد بر ۲۰۰ تا ۳۰۰	۱۱۱۰	مزداد بر ۳۰۰ تا ۴۰۰	۱۷۵۰	مزداد بر ۴۰۰	۲۰۸۰	
پله‌های مصرف ماهانه (کیلووات ساعت)	هزینه هر کیلووات ساعت (برحسب ریال)													
مصرف ۰ تا ۱۰۰	۵۵۰													
مزداد بر ۱۰۰ تا ۲۰۰	۵۷۵													
مزداد بر ۲۰۰ تا ۳۰۰	۱۱۱۰													
مزداد بر ۳۰۰ تا ۴۰۰	۱۷۵۰													
مزداد بر ۴۰۰	۲۰۸۰													

(آزمون شبیه‌ساز نهایی مرحله ۱۰ - ۱۴۰۳/۰۳/۲۹)

۱	ابتدا نمودار تابع $y = x $ را رسم کرده و به کمک آن نمودار تابع $y = x + 1$ را رسم نمایید.	۱۴
---	--	----

(آزمون نهایی ۳۰ خردادماه ۱۴۰۳ - ریاضی و آمار ۲)

۱	نمودار تابع $y = x - 3 + 1$ را به کمک انتقال نمودار $g = x $ رسم کنید.	۱۰
---	---	----

(آزمون شبیه‌ساز نهایی مرحله ۵ - ۱۴۰۲/۱۰/۰۷)

خاطره بازی...



۰.۷۵	عکس نقیض گزاره شرطی « اگر n^2 عددی زوج باشد، آنگاه n عددی زوج است » را بنویسید. ($n \in \mathbb{Z}$)	۹
------	--	---

(آزمون نهایی ۳۰ خردادماه ۱۴۰۳ - ریاضی و آمار ۲)

۲/۵	به کمک عکس نقیض گزاره شرطی ثابت کنید اگر n^2 فرد باشد، آن‌گاه n نیز فرد است. ($n \in \mathbb{Z}$)	۴
-----	---	---

(آزمون شبیه‌ساز نهایی مرحله ۵ - ۱۴۰۲/۰۹/۱۰)

۱	<p>درستی یا نادرستی هریک از عبارتهای زیر را مشخص کنید.</p> <p>الف) گزاره‌ی $(P \wedge \sim P)$ همیشه نادرست است.</p> <p>ب) ارزش گزاره‌ی شرطی $(p \Rightarrow q)$ به انتقای مقدم، همواره درست است.</p> <p>پ) اگر دامنه و برد یک تابع برابر باشد، آن تابع را همانی می‌گویند.</p> <p>ت) اگر تابع علامت به صورت $f(x) = \text{sign}(x)$ باشد، در این صورت $\text{sign}(-200) = +1$.</p>	۱
---	---	---

(آزمون نهایی ۳۰ خردادماه ۱۴۰۳ - ریاضی و آمار ۲)

۲	<p>درستی یا نادرستی هر مورد را مشخص کنید.</p> <p>الف) گزاره $(p \vee \sim p) \Leftrightarrow (p \Rightarrow p)$ همواره درست است.</p> <p>ب) تابعی را که دامنه و برد آن برابر باشند، تابع همانی می‌گویند.</p> <p>ج) $[-1/2] + [0/7] = -1$ است.</p> <p>د) در روش مغالطه ممکن است نتیجه‌گیری درست باشد.</p>	۱
---	---	---

(آزمون شبیه‌ساز نهایی مرحله ۵ - ۱۴۰۲/۰۹/۱۰)

خاطره بازی...



۲	اصطلاحات زیر را توصیف کنید. (هر مورد ۱ نمره) الف) جغرافیای سیاسی:	۹
---	--	---

(آزمون جامع شبیه‌ساز نهایی درس جغرافیا ۲)

۰.۲۵	جغرافیای سیاسی را تعریف کنید.	۱۰
------	-------------------------------	----

(آزمون نهایی ۲ تیرماه ۱۴۰۳ درس جغرافیا ۲)

خاطره بازی...



۱	دو مورد از دلایل علاقه‌مندی شرکت‌های چندملیتی به سرمایه‌گذاری در کشورهای دیگر را بنویسید.	۱۰
---	---	----

(آزمون جامع شبیه‌ساز نهایی درس جغرافیا ۲)

۱	چرا شرکت‌های چندملیتی به سرمایه‌گذاری در کشورهای دیگر علاقه‌مند هستند؟ (دو مورد)	۱۸
---	--	----

(آزمون نهایی ۲ تیرماه ۱۴۰۳ درس جغرافیا ۲)

خاطره بازی...



۱	<p>در شکل زیر، علامت سؤال به چه کشورهایی اشاره دارد؟ یک مورد از ویژگی‌های آن‌ها را بیان کنید:</p>	۱۱
---	---	----

(آزمون جامع شبیه‌ساز نهایی درس جغرافیا ۲)

۰.۷۵	<p>روی مدل «نظریه مرکز-پیرامون»، جاهای مشخص شده را با کلمات مناسب پر کنید.</p>	۲۰
------	--	----

(آزمون نهایی ۲ تیرماه ۱۴۰۳ درس جغرافیا ۲)

خاطره بازی...



۱۷	کشاورزی تجاری را توضیح دهید.	۱/۵
----	------------------------------	-----

(آزمون جامع شبیه‌ساز نهایی درس جغرافیا ۲)

۱۱	سه مورد از ویژگی‌های کشاورزی تجاری را بنویسید.	۰.۲۵
----	--	------

(آزمون نهایی ۲ تیرماه ۱۴۰۳ درس جغرافیا ۲)

خاطره بازی...



<p>پ) «استخراج و بدست آوردن مواد خام از زمین یا دریا» و «فعالیت‌هایی که در فرایند آنها خدماتی به دیگران ارائه می‌شود» به ترتیب جز کدامیک از طبقه بندی‌های فعالیت اقتصادی هستند؟</p>	۱) نوع اول و چهارم	۲) نوع اول و سوم	۳) نوع سوم و چهارم	۴) نوع دوم و سوم
---	--------------------	------------------	--------------------	------------------

(آزمون جامع شبیه‌ساز نهایی درس جغرافیا ۲)

<p>پ) در بین عناصر فرهنگی، (دین - زبان) نقش مهمی در خلق چشم اندازهای فرهنگی دارد.</p> <p>ت) استخراج معدن از فعالیت‌های اقتصادی (نوع اول - نوع دوم) به شمار می‌رود.</p>
--

(آزمون نهایی ۲ تیرماه ۱۴۰۳ درس جغرافیا ۲)

خاطره بازی...



۱	<p>۵ با استفاده از کلمات داده شده به سؤالات زیر پاسخ دهید. (چهار مورد اضافی است.) (هر مورد ۰/۲۵)</p> <p>(یکتاپرستی - غیریکتاپرستی - عرض جغرافیایی - دما و بارش - تکساخت - فدرال - رانزل - مکیندر)</p> <p>الف) دین زرتشت جزو چه دسته‌ای از ادیان قرار می‌گیرد؟</p> <p>ب) وایتکر بر اساس چه معیاری، زیست‌بوم‌ها را تقسیم‌بندی کرده است؟</p> <p>پ) کشور استرالیا دارای چه نظام سیاسی‌ای است؟</p> <p>ت) حمله نظامی عراق به ایران، نمونه‌ای از دیدگاه کدام فرد قلمداد می‌شود؟</p>
---	--

(آزمون جامع شبیه‌ساز نهایی درس جغرافیا ۲)

	<p>نظریه های ستون A کدام یک از اتفاقات ستون B را توجیه می‌کنند؟ (یک عبارت اضافی است)</p>		
	ستون B	ستون A	
۰.۷۵	<p>۱- سیاست های جنگ طلبانه آلمان در جنگ جهانی اول و دوم</p> <p>۲- تشکیل سازمان ملل</p> <p>۳- حمله عراق به کویت</p> <p>۴- تبدیل انگستان به قدرت جهانی</p>	<p>الف- فضای حیاتی- رانزل</p> <p>ب- هارتلند- مکیندر</p> <p>پ- قدرت دریایی- ماهان</p>	۷

(آزمون نهایی ۲ تیرماه ۱۴۰۳ درس جغرافیا ۲)

خاطره بازی...



پ) کشورهای سرمایه‌داری و در رأس آن‌ها آمریکا، به چه منظوری پس از جنگ جهانی دوم علاوه بر صدور کالا، اقدام به صدور سرمایه نیز کرده‌اند؟	الف- بهره‌برداری از منابع سرزمین‌های دیگر
ب- ایجاد کارخانه‌های مونتاژ و افزایش تولید در دیگر نقاط جهان	پ- جلوگیری از گسترش کمونیسم
ت- جلوگیری از گسترش شرکت‌های چندملیتی»	ب و ت (۲)
۳) الف و ت	الف و پ (۱)
۴) ب و پ	

(آزمون جامع شبیه‌ساز نهایی درس جغرافیا ۲)

ت) دو مورد از تلاش‌های ایران برای تبدیل شدن به قدرت دریایی را بنویسید.
ث) چرا کشورهای سرمایه‌داری بعد از جنگ جهانی دوم به مرحله صدور سرمایه وارد شدند؟
ج) منابع انرژی و معدنی یک کشور، در چه صورتی عامل کاهش قدرت ملی می‌شود؟

(آزمون نهایی ۲ تیرماه ۱۴۰۳ درس جغرافیا ۲)

خاطره بازی...



	ت) به مرزهایی که از زمان‌های قدیم در نواحی خالی از سکنه ترسیم شده‌اند چه می‌گویند؟	
	۱) مرزهای پیشتاز ۲) مرزهای تحمیلی ۳) مرزهای تطبیقی ۴) مرزهای مصنوعی	

(آزمون جامع شبیه‌ساز نهایی درس جغرافیا ۲)

	با توجه به "تقسیم بندی انواع مرزها از نظر پیدایش و شکل گیری" هر یک از عبارات زیر کدام نوع مرز را توصیف می‌کنند؟	
	الف) از زمان‌های قدیم در نواحی خالی از سکنه ترسیم شده‌اند.	۱۶
۰.۷۵	ب) در تعیین این مرزها شرایط فرهنگی در نظر گرفته نشده است.	

(آزمون نهایی ۲ تیرماه ۱۴۰۳ درس جغرافیا ۲)

خاطره بازی...



۱		۹	شکل زیر به چه صنعتی اشاره دارد؟ یک مورد از ویژگی‌های مهم آن را بیان کنید:
---	---	---	---

(آزمون جامع شبیه‌ساز نهایی درس جغرافیا ۲)

۱	۱۹	دو مورد از ویژگی‌های صنایع نورا بنویسید.
---	----	--

(آزمون نهایی ۲ تیرماه ۱۴۰۳ درس جغرافیا ۲)

خاطره بازی...



(یکتاپرستی - غیریکتاپرستی - عرض جغرافیایی - دما و بارش - تک‌ساخت - فدرال - راتزل - مکیندر)

الف) دین زرتشت جزو چه دسته‌ای از ادیان قرار می‌گیرد؟

ب) وایتکر بر اساس چه معیاری، زیست‌بوم‌ها را تقسیم‌بندی کرده است؟

پ) کشور استرالیا دارای چه نظام سیاسی‌ای است؟

ت) حمله نظامی عراق به ایران، نمونه‌ای از دیدگاه کدام فرد قلمداد می‌شود؟

(آزمون جامع شبیه‌ساز نهایی درس جغرافیا ۲)

نوع نظام سیاسی	تک ساخت	فدرال	ترکیبی
نظام قانونگذاری	متمرکز	الف؟	ب؟
کشور نمونه	ب؟	استرالیا	ت؟

(آزمون نهایی ۲ تیرماه ۱۴۰۳ درس جغرافیا ۲)

خاطره بازی...



ب) در توجه، هرچه بیش تر باشد، نوع توجه هم ارادی تر خواهد بود.

پ) خطاهای حافظه به دو دسته و تقسیم می شود.

(آزمون جامع شبیه‌ساز نهایی درس روانشناسی)

د) پردازش علاوه بر ویژگی های حسی تحت تاثیر ویژگی های کیفی قرار دارد.

ه) خطاهای حافظه به دو دسته ی و تقسیم می شود .

(آزمون نهایی ۴ تیرماه ۱۴۰۳ درس روانشناسی)

خاطره بازی...



۱	هر یک از مفاهیم سمت راست به کدام یک از عبارات سمت چپ اشاره دارد؟ (یک مورد از مفاهیم، اضافی است)		۴
	عبارات	مفاهیم	
	۱- تبیین	الف) بیان روشن و تا حد ممکن دقیق از چیستی مفهوم و موضوعی	
	۲- گوش به زنگی	ب) توانایی فرد برای یافتن محرک هدف در یک دوره زمانی طولانی	

(آزمون جامع شبیه‌ساز نهایی درس روانشناسی)

۱	در عبارت های زیر کلمه مناسب داخل پرانتز را انتخاب کنید .	
	الف) « پرتو نیکان نگیرد هر که بنیادش بد است ». (عوامل وراثتی / عوامل محیطی)	
	ب) به توانایی فرد برای یافتن محرک هدف در یک دوره زمانی طولانی می گویند. (گوش به زنگی / ردیابی علامت)	۳

(آزمون نهایی ۴ تیرماه ۱۴۰۳ درس روانشناسی)

خاطره بازی...



ث) مهم‌ترین عواملی که مانع تصمیم‌گیری فرد می‌شوند، چیست؟ (دو مورد)

ج) منظور از «سبک زندگی» چیست؟

(آزمون جامع شبیه‌ساز نهایی درس روانشناسی)

مفاهیم زیر را تعریف کنید.

الف) سبک زندگی:

۳

۱۳

(آزمون نهایی ۴ تیرماه ۱۴۰۳ درس روانشناسی)

خاطره بازی...



	۳- هنگام بروز ناهماهنگی شناختی، فرد باید رفتارش را تغییر داده تا با نگرش هماهنگ شود.	
	۴- مادر وضعیت درماندگی آموخته شده، یاد می‌گیریم که نتایج به دست آمده ارتباطی با کار ما ندارد.	

(آزمون جامع شبیه‌ساز نهایی درس روانشناسی)

	معنا و مفهوم عبارت زیر را تحلیل کنید:	۲۲
۱	«درماندگی آموخته شده مربوط به افرادی است که کوشش را با پیشرفت مرتبط نمی‌دانند.»	

(آزمون نهایی ۴ تیرماه ۱۴۰۳ درس روانشناسی)

خاطره بازی...



		ت) دو مورد از ویژگی‌های یک مسئله را نام ببرید.
		ث) مهم‌ترین عواملی که مانع تصمیم‌گیری فرد می‌شوند، چیست؟ (دو مورد)

(آزمون جامع شبیه‌ساز نهایی درس روانشناسی)

۱		۲۳	یک از عوامل موثر بر حل مسئله استفاده می‌کرد؟
			ب) سه مورد از ویژگی‌های مسئله را نام ببرید.

(آزمون نهایی ۴ تیرماه ۱۴۰۳ درس روانشناسی)

خاطره بازی...



		۳- ادراک	ب) ارزیابی راه‌های مختلف و انتخاب بهترین راه
		۴- تصمیم‌گیری	ج) به خاطر آوردن اطلاعات ذخیره شده
		۵- تفکر	د) فرایند تفسیر و معنابخشی به محرک‌های
		۶- بازیابی	انتخابی

(آزمون جامع شبیه‌ساز نهایی درس روانشناسی)

	درست و نادرست بودن جملات زیر را مشخص کنید. الف) حضرت علی (ع) در حکمت نهج البلاغه می‌فرماید: «چون به یقین رسیدید، اقدام کنید». ب) به خاطر آوردن اطلاعات ذخیره شده از حافظه «اندوزش» نام دارد.	۱
--	--	---

(آزمون نهایی ۴ تیرماه ۱۴۰۳ درس روانشناسی)

خاطره بازی...



۴	هر یک از مفاهیم سمت راست به کدام یک از عبارات سمت چپ اشاره دارد؟ (یک مورد از مفاهیم، اضافی است)	۱
	مفاهیم	عبارات
	الف) بیان روشن و تا حد ممکن دقیق از چیستی مفهوم و موضوعی	۱- تبیین
	ب) توانایی فرد برای یافتن محرک هدف در یک دوره زمانی طولانی	۲- گوش به زنگی
	پ) یکی از پیامدهای ناتوانی در حل مسئله می‌باشد.	۳- ادراک
	ت) معنی و مفهوم و سازمان دادن به محرک‌های توجه شده	۴- توصیف

(آزمون جامع شبیه‌ساز نهایی درس روانشناسی)

ج) تعبیر و تفسیر کردن ، معنی و مفهوم و سازمان دادن به محرک‌های توجه شده « احساس » نام دارد.
د) منظور از « توصیف » ، بیان روشن و تا حد ممکن دقیق از « چیستی مفهوم و موضوعی » است.

(آزمون نهایی ۴ تیرماه ۱۴۰۳ درس روانشناسی)

خاطره بازی...



ج) زمانی که حتماً باید تصمیم بگیریم ولی قادر به تصمیم‌گیری نیستیم، حالت عاطفی ناخوش‌آیندی به نام را تجربه می‌کنیم.
د) به مجموعه عوامل فرازیستی که باعث به حرکت در آوردن رفتار و شناخت ما می‌شود، می‌گویند.

(آزمون جامع شبیه‌ساز نهایی درس روانشناسی)

ب) رفتارهای وابسته به آمادگی زیستی نام دارد.
ج) عاملی که ما را به حرکت وا می‌دارد، به سوی رفتار معین سوق می‌دهد می‌گویند.

(آزمون نهایی ۴ تیرماه ۱۴۰۳ درس روانشناسی)

خاطره بازی...



۵	هر عبارت، دربارهٔ کدام یک از مفاهیم مشخص شده می‌باشد؟
	الف) علاوه بر ویژگی‌های حسی، تحت تأثیر ویژگی‌های کیفی قرار دارد. (پردازش ادراکی / پردازش مفهومی)

(آزمون جامع شبیه‌ساز نهایی درس روانشناسی)

	ج) عاملی که ما را به حرکت وا می‌دارد، به سوی رفتار معین سوق می‌دهد. می‌گویند.
	د) پردازش..... علاوه بر ویژگی‌های حسی تحت تأثیر ویژگی‌های کیفی قرار دارد.
	ه) خطاهای حافظه به دو دسته ی..... و..... تقسیم می‌شود.

(آزمون نهایی ۴ تیرماه ۱۴۰۳ درس روانشناسی)

خاطره بازی...



	پ) پدیده «نوک زبانی» مربوط به خطا در کدام مرحله حافظه است؟	
	۱- حافظه حسی	۲- رمزگردانی
	۳- ذخیره سازی	۴- بازیابی

(آزمون جامع شبیه‌ساز نهایی درس روانشناسی)

	مریم در هنگام پرسش معلم از او، می گوید من پاسخ سؤال را می دانم ولی نمی توانم بگویم. مریم چه وضعیتی را تجربه کرده است؟	
۰.۲۵	الف) پدیده نوک زبانی	ب) فرافاصله
	ج) هشدار کاذب	د) جستجو

(آزمون نهایی ۴ تیرماه ۱۴۰۳ درس روانشناسی)

خاطره بازی...



۱	انگیزه درونی و بیرونی چیست؟ برای هر کدام یک مثال بزنید.	۱۴
۱	روانشناسی سلامت چیست و پیوستار سلامت نشان از چه عقیده‌ای است؟	۱۵

(آزمون جامع شبیه‌ساز نهایی درس روانشناسی)

۰.۲۵	کدام یک از موارد زیر مربوط به انگیزه درونی است ؟ الف) انجام دادن تکالیف برای شرکت در فعالیت ورزشی ب) تمیز کردن اتاق برای رفتن به سینما ج) مطالعه بیشتر کتاب های روان شناسی به دلیل علاقه به روان شناسی د) درس خواندن برای دریافت نمره ۲۰	۸
------	---	---

(آزمون نهایی ۴ تیرماه ۱۴۰۳ درس روانشناسی)

خاطره بازی...



ج) نوع رمزگردانی حافظه کوتاه مدت چگونه است و ظرفیت و گنجایش آن چه اندازه می‌باشد؟

۱- عمدتاً معنایی - 4 ± 5 ماده

۲- حسی همراه با توجه - 2 ± 7 ماده

۳- عمدتاً حسی - 4 ± 7 ماده

۴- معنایی همراه با توجه - 2 ± 5 ماده

(آزمون جامع شبیه‌ساز نهایی درس روانشناسی)

در جدول زیر مقایسه مراحل حافظه را تکمیل کنید.			
زمان بازیابی	ظرفیت یا گنجایش	نوع رمزگردانی	مراحل حافظه
حدود نیم ثانیه	نامحدود	الف	انواع حافظه حسی
ب	2 ± 7 ماده	حسی (همراه با توجه)	کوتاه مدت

(آزمون نهایی ۴ تیرماه ۱۴۰۳ درس روانشناسی)

خاطره بازی...



	<p>ب) کدام یک از توضیحات زیر، دربارهٔ رویکرد گشتالت نادرست است؟</p> <p>۱- از نظر آن‌ها، ادراک ما از یک شکل، تحت تأثیر زمینه‌های مختلف، تغییر می‌کند.</p> <p>۲- آنان اعتقاد داشتند «کل، بیش‌تر از مجموع اجزا است».</p> <p>۳- در نزد روانشناسان گشتالتی «احساس» اهمیت زیادی دارد.</p> <p>۴- معتقد بودند که روش‌های جزء‌نگر، درک جامعی ایجاد نمی‌کند.</p>	
--	--	--

(آزمون جامع شبیه‌ساز نهایی درس روانشناسی)

	<p>سؤالات گسترده پاسخ زیر را بنویسید.</p> <p>از اصول گشتالت چهار مورد را ذکر کنید ؟</p>	۲۱
--	---	----

(آزمون نهایی ۴ تیرماه ۱۴۰۳ درس روانشناسی)